

MATEMATIKA

Semester 1

Latihan 1

Berilah tanda \surd untuk bilangan yang lebih besar!

350
<input type="radio"/>

305
<input type="radio"/>

375
<input type="radio"/>

395
<input type="radio"/>

425
<input type="radio"/>

405
<input type="radio"/>

450
<input type="radio"/>

405
<input type="radio"/>

307
<input type="radio"/>

370
<input type="radio"/>

378
<input type="radio"/>

320
<input type="radio"/>

305
<input type="radio"/>

320
<input type="radio"/>

390
<input type="radio"/>

309
<input type="radio"/>

410
<input type="radio"/>

405
<input type="radio"/>

420
<input type="radio"/>

303
<input type="radio"/>

Latihan 2

Berilah tanda \surd untuk bilangan yang lebih kecil!

350

365

385

395

415

405

420

422

377

370

378

387

325

320

390

399

410

405

420

430

Latihan 3

Isilah dengan *lebih besar dari* atau *lebih kecil dari*!

Contoh :

423 lebih besar dari 413

312 lebih kecil dari 322

1. 325315
2. 405450
3. 355 375
4. 461 450
5. 381 361
6. 368 315
7. 425 435
8. 375 357
9. 445 454
10. 543 544

Latihan 4

Isi titik-titik dalam kotak dengan bilangan yang sesuai!

1.	175	177	185
2.	191	193	199
3.	102	106	110
4.	215	217	219
5.	223	225	227
6.	325	323	315
7.	305	303	295
8.	375	373	371
9.	300	298	294
10.	428	418	414

Latihan 5

Tuliskan nama bilangannya!

- 235 =
- 242 =
- 267 =
- 153 =
- 237 =
- 321 =
- 345 =
- 369 =
- 390 =
- 443 =

Latihan 6

Isilah titik-titik dengan lambang bilangan yang sesuai!

- Seratus dua belas :
- Seratus dua puluh sembilan :
- Dua ratus lima puluh enam :
- Dua ratus delapan puluh dua :
- Dua ratus dua puluh lima :
- Tiga ratus tiga puluh sembilan :
- Tiga ratus enam puluh delapan :
- Tiga ratus sembilan puluh tujuh :
- Empat ratus tujuh puluh :
- Empat ratus sembilan puluh dua :

Latihan 7

Susun bilangan-bilangan di bawah ini mulai dari yang terkecil.

- 143, 256, 187, 222, 219, 199
Susunannya menjadi
.....
- 179, 134, 107, 109, 166, 110
Susunannya menjadi
.....
- 375, 332, 308, 304, 326, 377
Susunannya menjadi
.....

4. 399, 327, 349, 371, 322, 304
Susunannya menjadi
.....
5. 189, 198, 204, 108, 115, 178
Susunannya menjadi
.....
6. 236, 123, 178, 290, 288, 101
Susunannya menjadi
.....
7. 255, 190, 200, 178, 162, 300
Susunannya menjadi
.....
8. 355, 372, 391, 372, 350, 375
Susunannya menjadi
.....
9. 400, 443, 476, 455, 498, 410
Susunannya menjadi
.....
10. 484, 402, 497, 443, 494, 466
Susunannya menjadi
.....

Latihan 8

Susun bilangan-bilangan di bawah ini mulai dari yang terbesar.

1. 109, 290, 145, 167, 288, 102
Susunannya menjadi
.....
2. 176, 130, 205, 183, 200, 289
Susunannya menjadi
.....
3. 146, 205, 105, 189, 209, 187
Susunannya menjadi
.....
4. 220, 230, 206, 177, 145, 176
Susunannya menjadi
.....
5. 373, 293, 169, 293, 199, 266
Susunannya menjadi
.....
6. 256, 100, 276, 189, 395, 241
Susunannya menjadi
.....
7. 272, 196, 285, 145, 299, 264
Susunannya menjadi
.....
8. 254, 384, 445, 387, 358, 296
Susunannya menjadi
.....

9. 489, 479, 376, 247, 287, 181
Susunannya menjadi
.....
10. 404, 334, 284, 394, 388, 265
Susunannya menjadi
.....

Latihan 9

Kerjakan seperti contoh.

Contoh :

2 ratusan + 1 puluhan + 3 satuan = 200 + 10 + 3 = 213

1. 1 ratusan + 6 puluhan + 4 satuan =
.....+.....+.....=.....
2. 1 ratusan + 3 puluhan + 9 satuan =
.....+.....+.....=.....
3. 1 ratusan + 5 puluhan + 2 satuan =
.....+.....+.....=.....
4. 1 ratusan + 9 puluhan + 8 satuan =
.....+.....+.....=.....
5. 2 ratusan + 6 puluhan + 3 satuan =
.....+.....+.....=.....
6. 2 ratusan + 6 puluhan + 4 satuan =
.....+.....+.....=.....
7. 3 ratusan + 1 puluhan + 4 satuan =
.....+.....+.....=.....
8. 3 ratusan + 4 puluhan + 7 satuan =
.....+.....+.....=.....
9. 4 ratusan + 7 puluhan + 1 satuan =
.....+.....+.....=.....
10. 4 ratusan + 9 puluhan + 3 satuan =
.....+.....+.....=.....

Latihan 10

Isilah dengan bilangan yang tepat!

1. 2 ratusan + 1 puluhan + satuan = 215
2. 1 ratusan + 5 puluhan + satuan = 158
3. 1 ratusan + 9 puluhan + satuan = 194
4. ratusan + 4 puluhan + 2 satuan = 242
5. ratusan + 8 puluhan + 0 satuan = 380
6. ratusan + 9 puluhan + 1 satuan = 391
7. ratusan + 6 puluhan + 8 satuan = 368
8. 4 ratusan + puluhan + 8 satuan = 428
9. 4 ratusan + puluhan + 5 satuan = 445
10. 4 ratusan + puluhan + 7 satuan = 487

Latihan 11*Kerjakanlah!*

- 2 ratusan + 3 puluhan + 6 satuan =
- 3 ratusan + 3 puluhan + 3 satuan =
- 4 ratusan + 2 puluhan + 5 satuan =
- 4 ratusan + 9 puluhan + 9 satuan =
- 3 ratusan + 2 puluhan + 9 satuan =
- 2 ratusan + 5 puluhan + 2 satuan =
- 1 ratusan + 5 puluhan + 6 satuan =
- 4 ratusan + 5 puluhan + 4 satuan =
- 4 ratusan + 3 puluhan + 2 satuan =
- 4 ratusan + 8 puluhan + 1 satuan =

Latihan 12*Kerjakanlah!*

- $2 + 3 = \dots\dots$
- $3 + 5 = \dots\dots$
- $5 + 6 = \dots\dots$
- $7 + 3 = \dots\dots$
- $7 + 3 = \dots\dots$
- $8 + 7 = \dots\dots$
- $14 + 7 = \dots\dots$
- $15 + 4 = \dots\dots$
- $9 + 13 = \dots\dots$
- $4 + 18 = \dots\dots$
- $2 + 3 + 4 = \dots\dots$
- $6 + 7 + 8 = \dots\dots$
- $8 + 4 + 9 = \dots\dots$
- $3 + 3 + 4 + 5 = \dots\dots$
- $5 + 8 + 9 + 7 = \dots\dots$
- $9 - 4 = \dots\dots$
- $11 - 2 = \dots\dots$
- $12 - 4 = \dots\dots$
- $13 - 9 = \dots\dots$
- $17 - 5 = \dots\dots$
- $15 - 9 = \dots\dots$
- $12 - 8 = \dots\dots$
- $18 - 9 = \dots\dots$
- $16 - 4 - 3 = \dots\dots$
- $18 - 5 - 3 = \dots\dots$
- $17 - 2 - 5 = \dots\dots$
- $19 - 3 - 7 = \dots\dots$
- $18 - 6 - 3 - 2 = \dots\dots$
- $17 - 2 - 2 - 3 = \dots\dots$
- $18 - 3 - 5 - 6 = \dots\dots$

Latihan 13*Hitunglah!*

- $41 + 33 = \dots\dots$
- $62 + 25 = \dots\dots$
- $55 + 34 = \dots\dots$

- $61 + 27 = \dots\dots$
- $51 + 34 = \dots\dots$
- $22 + 71 = \dots\dots$
- $41 + 47 = \dots\dots$
- $58 + 31 = \dots\dots$
- $62 + 34 = \dots\dots$
- $54 + 44 = \dots\dots$
- $23 + 345 = \dots\dots$
- $55 + 364 = \dots\dots$
- $45 + 433 = \dots\dots$
- $39 + 405 = \dots\dots$
- $35 + 328 = \dots\dots$
- $421 + 35 = \dots\dots$
- $303 + 46 = \dots\dots$
- $427 + 37 = \dots\dots$
- $357 + 45 = \dots\dots$
- $289 + 24 = \dots\dots$

Latihan 14*Hitunglah!*

- $231 + 145 = \dots\dots$
- $324 + 123 = \dots\dots$
- $142 + 223 = \dots\dots$
- $322 + 145 = \dots\dots$
- $332 + 144 = \dots\dots$
- $224 + 235 = \dots\dots$
- $235 + 253 = \dots\dots$
- $215 + 135 = \dots\dots$
- $117 + 132 = \dots\dots$
- $365 + 102 = \dots\dots$
- $225 + 144 = \dots\dots$
- $325 + 163 = \dots\dots$
- $307 + 172 = \dots\dots$
- $288 + 201 = \dots\dots$
- $297 + 102 = \dots\dots$
- $102 + 395 = \dots\dots$
- $309 + 140 = \dots\dots$
- $256 + 213 = \dots\dots$
- $319 + 120 = \dots\dots$
- $251 + 244 = \dots\dots$

Latihan 15*Hitunglah!*

- $105 + 193 = \dots\dots$
- $177 + 122 = \dots\dots$
- $182 + 117 = \dots\dots$
- $195 + 104 = \dots\dots$
- $155 + 144 = \dots\dots$
- $100 + 188 = \dots\dots$
- $123 + 233 = \dots\dots$

8. $125 + 244 = \dots\dots\dots$
9. $216 + 152 = \dots\dots\dots$
10. $312 + 124 = \dots\dots\dots$
11. $143 + 124 = \dots\dots\dots$
12. $105 + 163 = \dots\dots\dots$
13. $107 + 172 = \dots\dots\dots$
14. $188 + 101 = \dots\dots\dots$
15. $197 + 102 = \dots\dots\dots$
16. $212 + 212 = \dots\dots\dots$
17. $144 + 244 = \dots\dots\dots$
18. $250 + 222 = \dots\dots\dots$
19. $245 + 233 = \dots\dots\dots$
20. $333 + 111 = \dots\dots\dots$

Latihan 16*Hitunglah!*

1. $329 + 68 = \dots\dots\dots$
2. $265 + 28 = \dots\dots\dots$
3. $146 + 37 = \dots\dots\dots$
4. $362 + 18 = \dots\dots\dots$
5. $478 + 18 = \dots\dots\dots$
6. $224 + 27 = \dots\dots\dots$
7. $256 + 39 = \dots\dots\dots$
8. $256 + 91 = \dots\dots\dots$
9. $278 + 18 = \dots\dots\dots$
10. $329 + 47 = \dots\dots\dots$
11. $325 + 67 = \dots\dots\dots$
12. $334 + 38 = \dots\dots\dots$
13. $405 + 16 = \dots\dots\dots$
14. $303 + 48 = \dots\dots\dots$
15. $315 + 77 = \dots\dots\dots$
16. $377 + 19 = \dots\dots\dots$
17. $374 + 17 = \dots\dots\dots$
18. $359 + 29 = \dots\dots\dots$
19. $424 + 48 = \dots\dots\dots$
20. $227 + 59 = \dots\dots\dots$

Latihan 17*Hitunglah!*

1. $156 + 337 = \dots\dots\dots$
2. $118 + 327 = \dots\dots\dots$
3. $139 + 328 = \dots\dots\dots$
4. $122 + 248 = \dots\dots\dots$
5. $126 + 147 = \dots\dots\dots$
6. $326 + 129 = \dots\dots\dots$
7. $215 + 277 = \dots\dots\dots$
8. $239 + 127 = \dots\dots\dots$
9. $179 + 317 = \dots\dots\dots$
10. $119 + 359 = \dots\dots\dots$
11. $129 + 259 = \dots\dots\dots$

12. $327 + 159 = \dots\dots\dots$
13. $117 + 219 = \dots\dots\dots$
14. $226 + 126 = \dots\dots\dots$
15. $224 + 226 = \dots\dots\dots$
16. $119 + 249 = \dots\dots\dots$
17. $158 + 219 = \dots\dots\dots$
18. $268 + 219 = \dots\dots\dots$
19. $118 + 217 = \dots\dots\dots$
20. $248 + 229 = \dots\dots\dots$

Latihan 18*Hitunglah!*

1. $186 - 60 = \dots\dots\dots$
2. $243 - 32 = \dots\dots\dots$
3. $299 - 87 = \dots\dots\dots$
4. $273 - 52 = \dots\dots\dots$
5. $175 - 52 = \dots\dots\dots$
6. $189 - 65 = \dots\dots\dots$
7. $277 - 54 = \dots\dots\dots$
8. $268 - 55 = \dots\dots\dots$
9. $184 - 72 = \dots\dots\dots$
10. $288 - 47 = \dots\dots\dots$
11. $346 - 23 = \dots\dots\dots$
12. $355 - 33 = \dots\dots\dots$
13. $368 - 67 = \dots\dots\dots$
14. $399 - 77 = \dots\dots\dots$
15. $387 - 65 = \dots\dots\dots$
16. $433 - 22 = \dots\dots\dots$
17. $494 - 63 = \dots\dots\dots$
18. $477 - 55 = \dots\dots\dots$
19. $492 - 60 = \dots\dots\dots$
20. $479 - 66 = \dots\dots\dots$

Latihan 19*Hitunglah!*

1. $458 + 232 = \dots\dots\dots$
2. $494 - 353 = \dots\dots\dots$
3. $379 - 137 = \dots\dots\dots$
4. $478 - 255 = \dots\dots\dots$
5. $458 - 248 = \dots\dots\dots$
6. $468 - 237 = \dots\dots\dots$
7. $420 - 320 = \dots\dots\dots$
8. $398 - 177 = \dots\dots\dots$
9. $475 - 341 = \dots\dots\dots$
10. $479 - 327 = \dots\dots\dots$
11. $465 - 243 = \dots\dots\dots$
12. $486 - 136 = \dots\dots\dots$
13. $478 - 317 = \dots\dots\dots$
14. $459 - 228 = \dots\dots\dots$
15. $375 - 173 = \dots\dots\dots$

16. $459 - 229 = \dots\dots\dots$
17. $444 - 223 = \dots\dots\dots$
18. $198 - 136 = \dots\dots\dots$
19. $399 - 149 = \dots\dots\dots$
20. $397 - 256 = \dots\dots\dots$

Latihan 20*Hitunglah!*

1. $458 - 193 = \dots\dots\dots$
2. $494 - 278 = \dots\dots\dots$
3. $371 - 256 = \dots\dots\dots$
4. $472 - 224 = \dots\dots\dots$
5. $458 - 229 = \dots\dots\dots$
6. $460 - 237 = \dots\dots\dots$
7. $480 - 229 = \dots\dots\dots$
8. $492 - 258 = \dots\dots\dots$
9. $460 - 125 = \dots\dots\dots$
10. $366 - 180 = \dots\dots\dots$
11. $465 - 249 = \dots\dots\dots$
12. $486 - 138 = \dots\dots\dots$
13. $471 - 319 = \dots\dots\dots$
14. $450 - 228 = \dots\dots\dots$
15. $371 - 143 = \dots\dots\dots$
16. $452 - 229 = \dots\dots\dots$
17. $441 - 223 = \dots\dots\dots$
18. $493 - 236 = \dots\dots\dots$
19. $485 - 169 = \dots\dots\dots$
20. $335 - 176 = \dots\dots\dots$

Latihan 21*Hitunglah!*

1. $112 + 78 - 115 = \dots\dots\dots$
2. $123 + 81 - 68 = \dots\dots\dots$
3. $166 + 28 - 127 = \dots\dots\dots$
4. $177 + 42 - 137 = \dots\dots\dots$
5. $231 + 59 - 177 = \dots\dots\dots$
6. $171 + 62 - 139 = \dots\dots\dots$
7. $77 + 118 - 125 = \dots\dots\dots$
8. $66 + 217 - 224 = \dots\dots\dots$
9. $44 + 137 - 129 = \dots\dots\dots$
10. $88 + 108 - 136 = \dots\dots\dots$
11. $145 - 24 + 111 = \dots\dots\dots$
12. $184 - 126 + 71 = \dots\dots\dots$
13. $269 - 124 + 133 = \dots\dots\dots$
14. $234 - 72 + 26 = \dots\dots\dots$
15. $176 - 42 + 113 = \dots\dots\dots$
16. $114 - 72 + 123 = \dots\dots\dots$
17. $113 - 82 + 128 = \dots\dots\dots$
18. $195 - 143 + 43 = \dots\dots\dots$
19. $134 - 118 + 78 = \dots\dots\dots$
20. $183 - 56 + 65 = \dots\dots\dots$

Latihan 22*Hitunglah!*

1. $445 + 39 - 238 = \dots\dots\dots$
2. $472 + 35 - 155 = \dots\dots\dots$
3. $344 + 148 - 266 = \dots\dots\dots$
4. $337 + 156 - 149 = \dots\dots\dots$
5. $265 + 229 - 257 = \dots\dots\dots$
6. $245 + 249 - 157 = \dots\dots\dots$
7. $266 - 229 + 257 = \dots\dots\dots$
8. $397 - 248 + 226 = \dots\dots\dots$
9. $375 - 55 + 127 = \dots\dots\dots$
10. $383 - 169 + 148 = \dots\dots\dots$
11. $256 + 227 - 157 = \dots\dots\dots$
12. $380 + 123 - 206 = \dots\dots\dots$
13. $345 + 143 - 277 = \dots\dots\dots$
14. $442 + 55 - 379 = \dots\dots\dots$
15. $395 - 228 + 255 = \dots\dots\dots$
16. $277 - 31 + 228 = \dots\dots\dots$
17. $381 - 34 + 38 = \dots\dots\dots$
18. $282 + 107 - 126 = \dots\dots\dots$
19. $337 + 49 - 257 = \dots\dots\dots$
20. $325 + 16 - 158 = \dots\dots\dots$

Latihan 23*Kerjakanlah!*

1. Murid kelas dua berjumlah 225 orang. Lima puluh delapan orang tidak masuk karena banjir. Berapa murid kelas dua yang masuk sekolah?
2. Ibu mempunyai 124 gelas. Ketika dicuci, gelas itu pecah 32 buah. Berapa gelas ibu sekarang?
3. Paman memelihara 229 ekor burung merpati. Burung itu lepas dari sangkar 31 ekor dan mati 15 ekor. Berapa ekor burung sisanya?
4. Murid perempuan di kelas 2A ada 19 orang. Jumlah murid kelas itu ada 45 orang. Berapa banyak murid laki-laki?
5. Paman memelihara 175 ekor ayam. Ayamnya mati 49 ekor. Kemudian ia membeli lagi 107 ekor. Berapa ayam paman sekarang?
6. Yuda membeli 146 balon untuk perayaan ulang tahun. Sebanyak 75 buah balon dibagikan dan 9 buah balon meletus. Berapa sisa balon Yuda?
7. Ratih membeli 74 butir telur. Lalu membeli lagi sebanyak 132 butir. Ketika dibawa dari pasar, telur-telur itu pecah 29 butir. Berapa butir telur yang tidak pecah?
8. Nana memetik 150 tangkai bunga. Kemudian ia memetik lagi 72 tangkai. Karena kepanasan, 25 tangkai bunga layu. Berapa tangkai bunga yang tidak layu?

9. Di dalam ember terdapat 128 ekor ikan. Sebanyak 97 ekor dipelihara dan sisanya digoreng. Berapa ekor ikan yang digoreng?
10. Ayah memanen 221 buah manggis. Seratus tujuh puluh buah dijual ke pasar. Berapa sisa buah manggis yang tidak dijual?
11. Fikri memelihara 129 ekor burung merpati. Burung itu dijual 21 ekor dan mati 15 ekor. Berapa ekor sisanya?
12. Seorang penjual balon membeli 376 balon. Balon itu meletus 59 buah. Ia membeli lagi 122 balon. Berapa banyak balon yang tersisa?
13. Penjual roti membeli 345 butir telur. Telur itu dipakai untuk membuat roti sebanyak 281 butir. Kemudian ia membeli lagi 245 butir telur. Berapa jumlah telur sekarang?
14. Seorang pedagang membeli 475 buah apel. Apel yang telah terjual sebanyak 368 buah. Kemudian ia membeli lagi sebanyak 256 buah. Berapa jumlah apel milik pedagang itu sekarang?
15. Di perpustakaan terdapat 478 buku, dipinjam 129 buku. Petugas perpustakaan membeli lagi sebanyak 75 buku. Berapa banyak buku di perpustakaan sekarang?
16. Seorang pedagang membeli 499 buah jeruk. Selama dua hari telah terjual sebanyak 395 buah. Pedagang itu membeli lagi 164 jeruk. Berapa jeruk yang ada sekarang?
17. Kakek memelihara 450 ekor bebek. Karena terserang penyakit, bebek kakek mati 105 ekor. Kakek membeli lagi 100 ekor. Berapa jumlah bebek kakek sekarang?
18. Ibu memberi uang kepada Adi sebanyak 475 rupiah. Dibelanjakan oleh Adi sebanyak 250 rupiah. Lalu ayah memberikan lagi sebanyak 150 rupiah. Berapa uang Adi sekarang?
19. Paman memelihara 425 ikan gurame dalam kolam. Paman membeli lagi 15 ikan gurame. Kemudian ia menjualnya sebanyak 250 ekor. Berapa sisa ikan paman sekarang?
20. Ibu membeli 375 buah gelas. Ketika disimpan, gelas jatuh sehingga pecah 125 buah. Kemudian ibu membeli lagi sebanyak 215 gelas. Berapa gelas ibu sekarang ?

Latihan 24

Kerjakanlah!

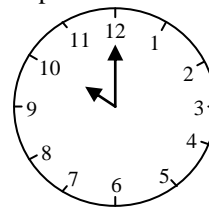
1. Ibu memelihara 328 ekor ayam, mati 119 ekor. Kemudian ibu membeli lagi 125 ekor. Berapa jumlah ayam milik ibu sekarang?

2. Paman memelihara 456 ekor ikan mas, dijual 238 ekor. Berapa jumlah ikan mas yang tersisa?
3. Tono memiliki 250 butir kelereng. Setelah diberikan kepada Ali, sisanya tinggal 230 butir. Berapakah kelereng Tono yang diberikan kepada Ali?
4. Seorang pedagang menjual 125 mangga, 75 jeruk, dan 225 salak. Berapa jumlah buah yang dijual pedagang tersebut?
5. Calon murid baru SD 07 terdiri dari 221 putra dan 159 putri. Saat pengumuman, yang diterima hanya 124 anak. Berapa anak yang tidak diterima?
6. Untuk membuat kue, ibu membeli 324 butir telur. Ternyata yang pecah 15 butir. Kemudian ibu membeli lagi 125 butir berapa jumlah telur ibu sekarang?
7. Paman sedang memanen mangga. Pohon pertama menghasilkan 225 buah. Pohon kedua menghasilkan 124 buah. Sebanyak 250 buah dijual ke pasar. Berapa mangga yang belum terjual?
8. Panitia agustusan menyiapkan 275 kaos sejumlah 80 kaos telah dibagikan kepada peserta lomba. Panitia memesan lagi 205 kaos. Berapa kaos yang disiapkan panitia sekarang?
9. Di dalam bak ada 425 ekor ikan. Sebanyak 407 ekor dijual dan sisanya digoreng. Berapa ekor ikan yang digoreng?
10. Koperasi sekolah mempunyai 335 pensil. Koperasi membeli lagi 127 pensil. Hari ini terjual 58 pensil. Berapa sisa pensil yang ada di koperasi?

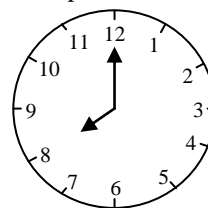
Latihan 25

Tentukan dari gambar jam di bawah ini.

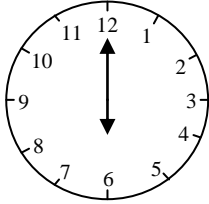
1. Jarum panjang menunjuk angka
Jarum pendek menunjuk angka
Waktu menunjukkan pukul
Dibaca pukul



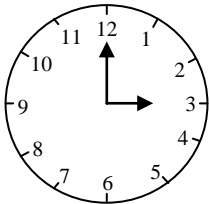
2. Jarum panjang menunjuk angka
Jarum pendek menunjuk angka
Waktu menunjukkan pukul
Dibaca pukul



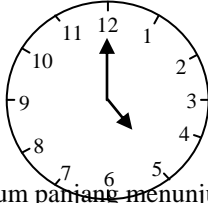
3. Jarum panjang menunjuk angka
 Jarum pendek menunjuk angka
 Waktu menunjukkan pukul
 Dibaca pukul



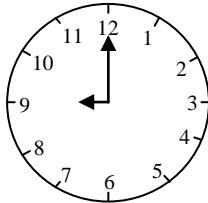
4. Jarum panjang menunjuk angka
 Jarum pendek menunjuk angka
 Waktu menunjukkan pukul
 Dibaca pukul



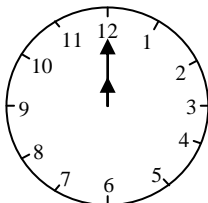
5. Jarum panjang menunjuk angka
 Jarum pendek menunjuk angka
 Waktu menunjukkan pukul
 Dibaca pukul



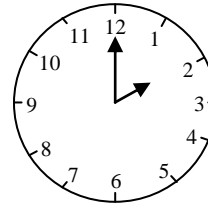
6. Jarum panjang menunjuk angka
 Jarum pendek menunjuk angka
 Waktu menunjukkan pukul
 Dibaca pukul



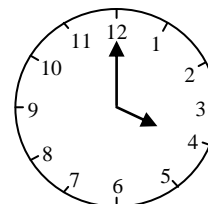
7. Jarum panjang menunjuk angka
 Jarum pendek menunjuk angka
 Waktu menunjukkan pukul
 Dibaca pukul



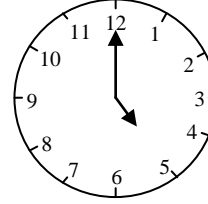
8. Jarum panjang menunjuk angka
 Jarum pendek menunjuk angka
 Waktu menunjukkan pukul
 Dibaca pukul



9. Jarum panjang menunjuk angka
 Jarum pendek menunjuk angka
 Waktu menunjukkan pukul
 Dibaca pukul



10. Jarum panjang menunjuk angka
 Jarum pendek menunjuk angka
 Waktu menunjukkan pukul
 Dibaca pukul



Latihan 26

Kerjakanlah!

1. Aku belajar untuk persiapan ulangan umum dari pukul 07.00 sampai pukul 09.00. Lama belajarku jam.
2. Tika dan Arif menyelesaikan PR dari pukul 4 sore sampai pukul 6 sore. Lama mereka menyelesaikan PRjam.
3. Romi belajar di sekolah dari pukul 07.00 sampai pukul 10.00. Lama Romi belajar di sekolah jam.
4. Hari Minggu Galih dan Gracia berenang dari pukul 08.00 sampai pukul 10.00. Lama mereka berenangjam.
5. Kakak tidur malam dari pukul sembilan sampai pukul lima pagi. Lama kakak tidurjam.

6. Jeffry belajar menari pukul empat sore. Lama menari Jeffr 1 jam. Berarti Jeffry selesai belajar menari pukul
7. Hari Minggu Herman mulai belajar karate pukul 08.00. Lama belajar karate Herman 2 jam. Herman selesai belajar karate pukul
8. Ibu mulai senam pukul empat sore. Lama ibu senam 1 jam. Ibu selesai senam pukul
9. Anak kelas 2 mulai bermain kasti pukul 10.00. Mereka bermain kasti selama 2 jam. Mereka selesai bermain kasti pukul
10. Paman mulai tidur puku 09.00. Malam ini paman tidur selama 3 jam. Paman bangun tidur pukul

Latihan 27

Ingat :

1 m = 10 dm 1 dm = 10 cm

1 cm = 10 mm

1 m = 100 cm 1 dm = 100 mm

1. 1 m = cm
2. 5 m = cm
3. 4 m = cm
4. 7 m = cm
5. 8 m = cm
6. 5 dm = cm
7. 3 dm = cm
8. 2 dm = cm
9. 4 dm = cm
10. 6 dm = cm
11. 4 dm = mm
12. 5 dm = mm
13. 6 dm = mm
14. 7 dm = mm
15. 8 dm = mm
16. 6 m = dm
17. 9 m = = dm
18. 5 m = dm
19. 3 m = dm
20. 4 m = dm
21. 5 cm = mm
22. 8 cm = mm
23. 2 cm = mm
24. 7 cm = mm
25. 6 cm = mm

Latihan 28

Kerjakan seperti contoh!

Contoh :

$4\text{ m} + 3\text{ dm} = 40\text{ dm} + 3\text{ dm} = 43\text{ dm}$

1. $5\text{ m} + 3\text{ dm} = \dots\dots\dots\text{ dm}$

2. $6\text{ m} + 1\text{ dm} = \dots\dots\dots\text{ dm}$
3. $5\text{ m} + 8\text{ dm} = \dots\dots\dots\text{ dm}$
4. $7\text{ m} + 3\text{ dm} = \dots\dots\dots\text{ dm}$
5. $2\text{ m} + 1\text{ dm} = \dots\dots\dots\text{ dm}$
6. $5\text{ m} + 2\text{ dm} = \dots\dots\dots\text{ dm}$
7. $9\text{ m} + 4\text{ dm} = \dots\dots\dots\text{ dm}$
8. $8\text{ m} + 4\text{ dm} = \dots\dots\dots\text{ dm}$
9. $4\text{ dm} + 3\text{ cm} = \dots\dots\dots\text{ cm}$
10. $7\text{ dm} + 1\text{ cm} = \dots\dots\dots\text{ cm}$
11. $5\text{ dm} + 2\text{ cm} = \dots\dots\dots\text{ cm}$
12. $9\text{ dm} + 4\text{ cm} = \dots\dots\dots\text{ cm}$
13. $7\text{ dm} + 9\text{ cm} = \dots\dots\dots\text{ cm}$
14. $4\text{ m} + 3\text{ dm} = \dots\dots\dots\text{ cm}$
15. $6\text{ m} + 5\text{ dm} = \dots\dots\dots\text{ cm}$

Latihan 29

Isi dengan lebih berat, lebih ringan, atau sama berat!

1. 4 gelas teh daripada 5 gelas teh.
2. 12 buku daripada 10 buku
3. 6 piring nasi daripada 8 piring nasi
4. 5 karung beras daripada 4 karung beras
5. 12 kantong gula daripada 15 kantong gula
6. 14 buah jeruk dengan 14 buah jeruk
7. 18 buah semangka daripada 14 buah semangka
8. 6 gelas kopi dengan 6 gelas kopi
9. 22 buah sendok daripada 21 buah sendok
10. 22 ubin daripada 32 ubin

Latihan 30

Ingat!

1 kg = 10 hg

1 kg = 100 dg

1 kg = 1.000 g

1. 1 kg = hg
2. 2 kg = hg
3. 3 kg = hg
4. 4 kg = hg
5. 5 kg = hg
6. 6 kg = hg
7. 7 hg = g
8. 8 dag = g
9. 10 dag = g
10. 50 hg = dag
11. 500 g = hg
12. 900 g = hg
13. 20 hg = g
14. 8 hg = dag
15. 3 hg = g
16. 10 dag = g
17. 9 kg = dag

- 18. 100 g = dag
- 19. 500 dag = kg
- 20. 50 hg = kg

Semester 2

Latihan 1

Kerjakan seperti contoh!

Contoh :

$$4 \times 3 = 4 + 4 + 4 = 12$$

1. $4 \times 3 =$
2. $6 \times 3 =$
3. $4 \times 4 =$
4. $3 \times 6 =$
5. $4 \times 7 =$
6. $6 \times 2 =$
7. $5 \times 4 =$
8. $3 \times 9 =$
9. $4 \times 8 =$
10. $7 \times 3 =$
11. $5 \times 6 =$
12. $6 \times 6 =$
13. $7 \times 5 =$
14. $7 \times 8 =$
15. $8 \times 5 =$
16. $8 \times 6 =$
17. $9 \times 5 =$
18. $8 \times 7 =$
19. $9 \times 4 =$
20. $9 \times 8 =$

Latihan 2

Kerjakan seperti contoh!

Contoh :

$$32 : 4 = 32 - 4 - 4 - 4 - 4 - 4 - 4 - 4 - 4 - 4 = 0$$

Jadi, $32 : 4 = 8$

1. $8 : 2 =$
2. $9 : 3 =$
3. $10 : 2 =$
4. $18 : 3 =$
5. $15 : 3 =$
6. $16 : 4 =$
7. $20 : 4 =$
8. $25 : 5 =$
9. $35 : 5 =$
10. $45 : 5 =$
11. $36 : 4 =$
12. $42 : 6 =$
13. $48 : 6 =$
14. $54 : 6 =$
15. $28 : 7 =$
16. $30 : 5 =$
17. $35 : 7 =$
18. $56 : 7 =$

$$19. \quad 32 : 8 =$$

$$20. \quad 72 : 9 =$$

Latihan 3

Kerjakanlah!

1. $445 + 39 - 238 = \dots\dots\dots$
2. $472 + 35 - 155 = \dots\dots\dots$
3. $444 + 248 - 266 = \dots\dots\dots$
4. $337 + 156 - 149 = \dots\dots\dots$
5. $265 + 226 - 167 = \dots\dots\dots$
6. $245 + 249 - 157 = \dots\dots\dots$
7. $266 + 229 - 257 = \dots\dots\dots$
8. $397 - 248 + 226 = \dots\dots\dots$
9. $374 - 55 + 127 = \dots\dots\dots$
10. $383 - 169 - 148 = \dots\dots\dots$
11. $437 + 48 - 275 = \dots\dots\dots$
12. $403 + 77 - 148 = \dots\dots\dots$
13. $448 + 149 - 275 = \dots\dots\dots$
14. $366 + 125 - 349 = \dots\dots\dots$
15. $375 + 205 - 387 = \dots\dots\dots$
16. $256 + 227 - 157 = \dots\dots\dots$
17. $380 + 161 - 266 = \dots\dots\dots$
18. $345 + 143 - 277 = \dots\dots\dots$
19. $442 + 55 - 379 = \dots\dots\dots$
20. $395 + 228 - 255 = \dots\dots\dots$
21. $277 - 31 + 228 = \dots\dots\dots$
22. $381 - 34 + 38 = \dots\dots\dots$
23. $282 + 138 - 126 = \dots\dots\dots$
24. $337 + 49 - 257 = \dots\dots\dots$
25. $455 + 116 - 158 = \dots\dots\dots$
26. $775 - 445 + 139 = \dots\dots\dots$
27. $890 - 478 + 275 = \dots\dots\dots$
28. $990 - 583 - 178 = \dots\dots\dots$
29. $891 - 384 + 275 = \dots\dots\dots$
30. $785 - 178 + 449 = \dots\dots\dots$

Latihan 4

Kerjakanlah!

1. $355 + 226 - 148 = \dots\dots\dots$
2. $480 + 136 - 324 = \dots\dots\dots$
3. $655 + 238 - 467 = \dots\dots\dots$
4. $748 + 222 - 355 = \dots\dots\dots$
5. $547 + 343 - 355 = \dots\dots\dots$
6. $652 + 273 - 416 = \dots\dots\dots$
7. $793 + 142 - 651 = \dots\dots\dots$
8. $647 + 362 - 584 = \dots\dots\dots$
9. $751 + 234 - 427 = \dots\dots\dots$
10. $645 + 354 - 396 = \dots\dots\dots$

11. $737 + 251 - 459 = \dots\dots\dots$
12. $641 + 234 - 356 = \dots\dots\dots$
13. $628 + 341 - 356 = \dots\dots\dots$
14. $456 + 273 - 354 = \dots\dots\dots$
15. $343 + 485 - 474 = \dots\dots\dots$
16. $475 + 362 - 584 = \dots\dots\dots$
17. $584 + 317 - 405 = \dots\dots\dots$
18. $647 + 362 - 584 = \dots\dots\dots$
19. $584 + 273 - 166 = \dots\dots\dots$
20. $574 + 375 - 483 = \dots\dots\dots$
21. $770 - 235 + 426 = \dots\dots\dots$
22. $760 - 237 + 428 = \dots\dots\dots$
23. $640 - 236 + 492 = \dots\dots\dots$
24. $880 - 429 + 385 = \dots\dots\dots$
25. $660 - 237 + 457 = \dots\dots\dots$
26. $520 - 316 + 548 = \dots\dots\dots$
27. $770 - 231 + 275 = \dots\dots\dots$
28. $790 - 169 + 418 = \dots\dots\dots$
29. $940 - 418 + 325 = \dots\dots\dots$
30. $880 - 356 + 238 = \dots\dots\dots$

Latihan 5*Kerjakanlah seperti contoh!*

Contoh :

$4 \times 6 : 3 = 24 : 3 = 8$

$16 : 4 \times 3 = 4 \times 3 = 12$

1. $6 \times 6 : 4 =$
2. $2 \times 8 : 4 =$
3. $8 \times 3 : 6 =$
4. $4 \times 10 : 8 =$
5. $3 \times 10 : 6 =$
6. $4 \times 5 : 10 =$
7. $5 \times 8 : 4 =$
8. $4 \times 4 : 8 =$
9. $2 \times 6 : 3 =$
10. $6 \times 5 : 10 =$
11. $40 : 10 \times 5 =$
12. $28 : 7 \times 6 =$
13. $18 : 3 \times 6 =$
14. $20 : 4 \times 8 =$
15. $40 : 8 \times 4 =$
16. $63 : 9 \times 4 =$
17. $56 : 8 \times 3 =$
18. $30 : 5 \times 6 =$
19. $42 : 6 \times 6 =$
20. $64 : 8 \times 10 =$

Latihan 6*Kerjakanlah!*

1. $40 : 5 \times 3 =$
2. $42 : 7 \times 5 =$

3. $30 : 6 \times 7 =$
4. $24 : 4 \times 6 =$
5. $9 \times 2 : 6 =$
6. $45 : 5 \times 3 =$
7. $8 \times 3 : 6 =$
8. $6 \times 4 : 8 =$
9. $6 \times 4 : 6 =$
10. $3 \times 6 : 2 =$
11. $3 \times 8 : 6 =$
12. $9 \times 4 : 2 =$
13. $9 \times 4 : 6 =$
14. $9 \times 2 : 3 =$
15. $7 \times 4 : 4 =$
16. $6 \times 6 : 4 =$
17. $9 \times 4 : 6 =$
18. $3 \times 6 : 9 =$
19. $2 \times 10 : 5 =$
20. $4 \times 10 : 5 =$
21. $30 : 6 \times 9 =$
22. $24 : 4 \times 8 =$
23. $45 : 5 \times 9 =$
24. $64 : 8 \times 9 =$
25. $72 : 9 \times 8 =$
26. $5 \times 6 : 10 =$
27. $5 \times 8 : 10 =$
28. $4 \times 6 : 3 =$
29. $3 \times 8 : 4 =$
30. $2 \times 9 : 3 =$

Latihan 7*Kerjakanlah!*

1. $18 : 3 \times 5 =$
2. $24 : 6 \times 7 =$
3. $64 : 8 \times 4 =$
4. $72 : 9 \times 3 =$
5. $48 : 6 \times 5 =$
6. $36 : 4 \times 8 =$
7. $42 : 7 \times 3 =$
8. $81 : 9 \times 10 =$
9. $32 : 4 \times 6 =$
10. $40 : 5 \times 4 =$
11. $36 : 4 \times 8 =$
12. $42 : 7 \times 3 =$
13. $27 : 9 \times 8 =$
14. $80 : 10 \times 7 =$
15. $63 : 9 \times 8 =$
16. $35 : 5 \times 6 =$
17. $49 : 7 \times 8 =$
18. $21 : 3 \times 6 =$
19. $18 : 6 \times 4 =$
20. $48 : 8 \times 9 =$

Latihan 8*Kerjakanlah!*

1. Perpustakaan sekolah Adi mempunyai 425 buku cerita. Perpustakaan itu membeli lagi 75 buku. Buku-buku yang rusak disimpan di gudang sebanyak 147 buku. Berapa buku yang ada di perpustakaan sekarang?
2. Paman memetik 278 buah tomat. Sebanyak 145 buah diberikan ke panti asuhan. Paman memetik lagi 176 buah. Berapa jumlah tomat paman sekarang?
3. Seorang pedagang mempunyai 376 jeruk. Terjual di pasar sebanyak 96 buah. Ia membeli lagi 128 jeruk. Berapa jeruk pedagang itu sekarang?
4. Budi mempunyai 495 kelereng. Ia bermain dan kalah 147 kelereng. Kemudian, ia kalah lagi 125 kelereng. Berapa sisa kelereng Budi?
5. Ibu mempunyai 125 butir telur untuk membuat kue. Telur-telur itu pecah 15 butir. Ibu membeli lagi 47 butir. Berapa telur ibu sekarang?
6. Koperasi sekolah mempunyai 415 pensil. Hari Senin terjual 168 pensil. Berapa sisa pensil di koperasi sekolah sekarang?
7. Di aula sekolah terdapat 156 kursi. Kursi yang rusak sebanyak 48 buah. Kepala sekolah membeli lagi 115 kursi. Berapa kursi yang ada di aula sekolah?
8. Tukang ikan mempunyai 425 ekor ikan. Pagi ini terjual 183 ekor. Ia membeli lagi 128 ekor. Berapa ikan yang ada sekarang?
9. Seorang peternak mempunyai 385 ekor ayam. Ia membeli lagi 85 ekor. Kemudian ayam itu dijual 219 ekor. Berapa jumlah ayam peternak itu sekarang?
10. Andi mempunyai 112 ekor kelinci. Karena sakit, kelinci Andi mati 25 ekor. Kelinci-kelinci itu adaya yang beranak sebanyak 42 ekor. Berapa jumlah kelinci Andi sekarang?
5. Pada suatu pesta disediakan 4 meja untuk tempat kue. Dalam setiap meja terdapat 2 piring kue. Dalam setiap piring ada 8 potong kue. Berapa potong kue yang disediakan dalam pesta itu?
6. Ibu membeli 9 kantong kacang. Setiap kantong berisi 5 kg kacang. Berapa banyak kacang yang dibeli ibu?
7. Paman membeli 8 kotak spidol. Setiap kotak berisi 6 spidol berwarna merah dan 4 berwarna hijau. Berapa jumlah spidol yang berwarna merah?
8. Jika dalam satu minggu 6 hari kita sekolah, berapa hari kita bersekolah dalam 10 minggu?
9. Pada suatu pesta ibu menyediakan 4 meja untuk tempat kue. Dalam setiap meja terdapat 3 piring kue. Dalam setiap piring terdapat 6 potong kue. Berapa potong kue yang disediakan dalam pesta itu?
10. Adik Abdi berjumlah 4 orang. Setiap orang diberi 3 buah permen oleh Abdi. Berapa jumlah permen yang dibagikan Abdi seluruhnya?
11. Ibu membeli jeruk sebanyak 4 kantong. Tiap kantong berisi 6 jeruk. Kemudian, ibu membagikan jeruk itu kepada 3 anaknya sama rata. Berapa jumlah buah jeruk yang diperoleh setiap anak?
12. Ayah membeli pensil sebanyak 3 kotak. Tiap kotak berisi 6 buah pensil. Kemudian ayah membagikan pensil itu kepada 2 anaknya sama rata berapa banyak pensil yang diperoleh setiap anak?
13. Amir bersama dua temannya pergi memancing ikan. Ketika pulang, mereka masing-masing membawa 2 kantong berisi 5 ekor ikan tiap kantong. Berapa banyak ikan yang diperoleh Amir bersama teman-temannya?
14. Untuk membuat 1 cangkir teh manis diperlukan 2 sendok gula. Jika ada 18 sendok gula, berapa cangkir teh manis yang dapat dibuat?
15. Sebuah kardus berisi 4 kotak. Setiap kotak berisi 2 gelas. Jika ada 2 kardus, berapa gelas yang ada di dalamnya?
16. Ayah mempunyai 14 buku cerita. Buku itu dibagi 2 sama banyak antara kakak dan adik. Berapa banyak buku yang diterima masing-masing?
17. Rosi membeli 15 buah apel. Apel-apel itu akan dibagikan kepada tiga adiknya. Berapa buah apel yang diterima masing-masing adiknya?
18. Ibu membeli 20 donat. Donat-donat itu akan dibagikan kepada Niko, Ani, Adi, dan Lili sama banyak. Berapa donat yang diterima Lili?
19. Nina mempunyai 32 permen. Permen-permen itu dimasukkan ke dalam bungkus-bungkus. Ada 8 bungkus. Berapa permen isi tiap bungkus itu?

Latihan 9*Kerjakanlah!*

1. Sebuah mobil mempunyai 4 roda. Jika ada 9 mobil. Berapa banyak roda seluruhnya?
2. Ibu membeli 7 kantong permen. Setiap kantong berisi 8 permen. Berapa banyak permen yang ibu beli?
3. Ayah membeli 8 kotak pensil. Setiap kotak berisi 3 pensil berwarna merah dan 6 pensil berwarna biru. Berapa jumlah pensil yang dibeli ayah?
4. Jika dalam satu minggu ada 7 hari, berapakah jumlah hari dalam 9 minggu?

20. Andi membeli 40 kelereng. Kelereng itu dimasukkan ke dalam kaleng. Isi tiap kaleng 5 kelereng. Berapa kaleng yang dibutuhkan Andi untuk memasukkan seluruh kelerengnya?

Latihan 10

Kerjakanlah!

- Ani mempunyai 8 dus piring. Setiap dus berisi 6 piring kemudian pecah 5 piring. Berapa buah piring Ani yang masih utuh?
- Ibu membeli 15 pensil. Pensil itu akan diberikan kepada ketiga anaknya, masing-masing 3 buah. Berapa pensil yang dimiliki ibu sekarang?
- Ibu menjahit 8 baju. Setiap baju harus dipasang 7 kancing. Kancing ibu hilang 3 buah. Berapa sisa kancing ibu?
- Bibi membeli 4 ikat rambut. Satu ikat ada 10 rambut. Rambut-rambut itu dibagikan kepada 5 anaknya. Berapa rambut yang diterima setiap anaknya?
- Noni mempunyai 8 kotak cokelat. Isi tiap kotak 3 buah cokelat. Cokelat-cokelat itu dibagikan kepada 6 orang temannya. Berapa cokelat yang diterima masing-masing temannya?
- Tuti membeli 4 kotak pensil. Isi tiap kotak 9 pensil. Pensil itu dibagikan kepada 6 orang temannya. Berapa banyak pensil yang diterima masing-masing temannya?
- Linda membeli 9 kantong permen. Isi tiap kantong 10 permen. Permen itu diberikan ke teman-temannya 50 butir. Berapa sisa permen Linda sekarang?
- Simon mempunyai 4 kotak kelereng. Isi tiap kotak 10 kelereng. Kelereng itu dibagikan kepada 5 orang temannya. Berapa kelereng yang diterima masing-masing temannya?
- Ibu guru mempunyai 2 kotak kapur. Isi tiap kotak 10 kapur. Tiap hari ibu memakai 4 kapur. Cukup untuk berapa harikah 2 kotak kapur itu?
- Nina menabung tiap hari 10 rupiah. Nina sudah menabung 7 hari. Karena nilai Nina bagus-bagus, maka Nina mendapat tambahan uang dari ibunya 20 rupiah. Berapa tabungan Nina sekarang?
- 9 mobil memiliki roda
- 7 ayam kakinya ada
- 10 ayam kakinya ada
- 4 kambing kakinya ada
- 7 kambing kakinya ada
- 20 ban cukup untukmobil
- 16 ban cukup untukmobil
- 15 ban cukup untukbajaj
- 21 ban cukup untukbajaj
- 12 ban cukup untuksepeda
- 18 ban cukup untuk sepeda
- Di halaman sekoah ada 8 mobil dan 6 sepeda motor. Berapa jumlah roda seluruhnya?
- Di kandang ada 6 kelinci dan 10 ekor ayam. Berapa jumlah kaki seluruhnya?
- Di pasar ada 10 kambing dan 10 ekor ayam. Berapa jumlah kaki seluruhnya?
- Di halaman puskesmas ada 10 sepeda motor dan 5 bajaj. Berapa jumlah ban seluruhnya?
- Di rumah paman ada sebuah 8 sepeda dan 4 mobil. Berapa jumlah ban seluruhnya?
- Ayah membeli 20 ban sepeda. Cukup untuk beberapa sepedakah sebanyak itu?
- Abu menabung tiap hari 10 rupiah. Uang tabungannya sekarang sudah ada 80 rupiah. Sudah berapa hari Abu menabung?

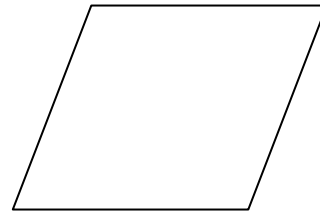

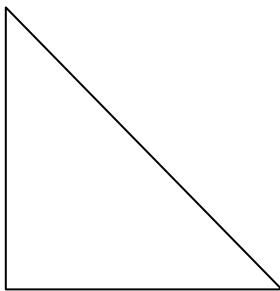
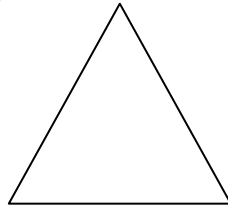
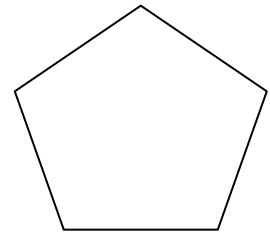
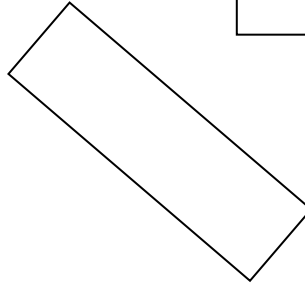
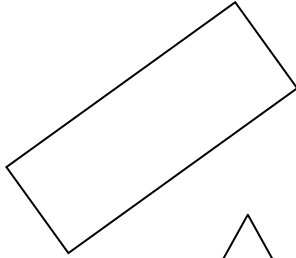
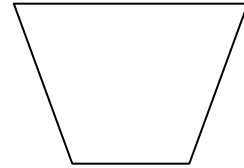


Latihan 11

Kerjakanlah!

- 8 minggu =hari
6 minggu =hari
- 42 hari =minggu
35 hari =minggu
- 8 mobil memiliki roda



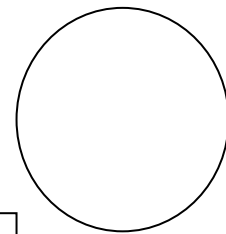
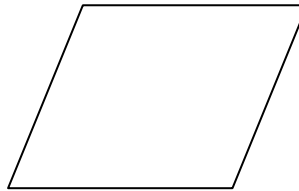
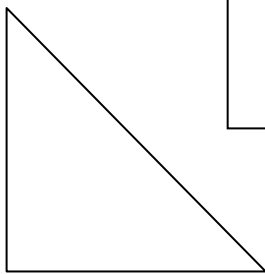
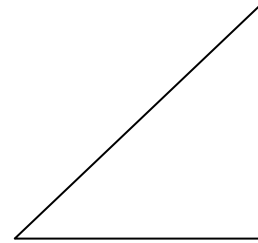
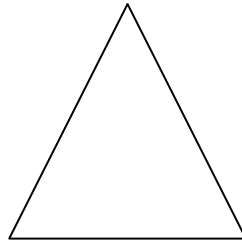
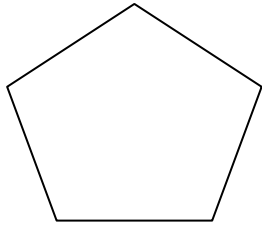
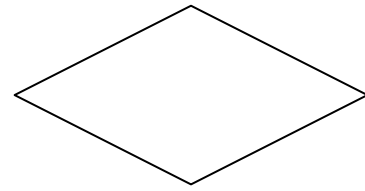

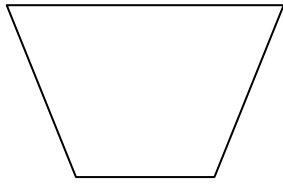
Latihan 12

Manakah bangun datar dibawah ini yang merupakan persegi panjang?



Latihan 13

Manakah bangun datar di bawah ini yang merupakan bangun persegi?



Latihan 14

Manakah bangun datar di bawah ini yang merupakan bangun segitiga.

