

IPS

Semester 1

Peta



Ringkasan Materi

A. Pengertian Peta

Peta adalah gambaran permukaan bumi yang dibuat dengan menggunakan skala tertentu pada bidang datar. Bidang datar yang dimaksudkan berupa kertas. Adapun kumpulan peta yang dibukukan disebut Atlas. Wilayah yang digambarkan pada peta meliputi wilayah yang luas dan sempit. Pada peta kenampakan alam juga dapat digambarkan. Kenampakan alam itu berupa dataran rendah, dataran tinggi, gunung, rawa, laut dan sebagainya.

B. Kelengkapan Peta

Kelengkapan peta berguna untuk mempermudah membaca peta. Kelengkapan peta, antara lain sebagai berikut.

1. Judul peta

Judul peta ditulis di bagian atas peta. Pada umumnya ditulis dengan huruf besar. Judul peta berfungsi memberikan kejelasan isi peta.







2. Skala

Skala adalah perbandingan jarak pada peta dengan keadaan yang sebenarnya. Misalnya, Peta Sumatra Barat memiliki skala 1:50.000. Artinya, 1 cm di peta sama dengan 50.000 cm keadaan sebenarnya.





3. Simbol

Simbol peta adalah bentuk atau tanda. Melambangkan penjelasan tertentu pada peta. Simbol digunakan untuk mewakili objek tertentu. Simbol dalam peta dapat berbentuk simbol titik, garis, dan warna.

Simbol titik, di antaranya:

-  Ibukota provinsi/kota
-  Ibukota kabupaten/kota
-  Kota
-  Gunung
-  Bandar udara
-  Pelabuhan laut

Simbol garis, contohnya:

-  Jalan raya
-  Batas provinsi
-  Batas kabupaten
-  Sungai

Simbol warna, contohnya:

- a) Hijau menggambarkan dataran rendah.
- b) Kuning menggambarkan dataran tinggi.
- c) Coklat menggambarkan pegunungan/gunung.
- d) Putih menggambarkan puncak salju.
- e) Biru menggambarkan perairan.

4. Keterangan/legenda

Keterangan/legenda adalah kumpulan beberapa simbol yang digunakan pada peta. Keterangan/legenda berada pada bagian yang kosong. Legenda harus dipahami oleh pembaca peta. Dengan demikian, pembaca mengetahui tujuan pembuatan peta.

5. Arah mata angin

Arah mata angin merupakan petunjuk arah pada peta. Arah mata angin berguna untuk mempermudah membaca peta. Arah mata angin ada delapan. Antara lain Utara (U), timur laut (TL), timur (T), tenggara (TG), selatan(S), barat daya (BD), barat (B), dan barat laut (BL). Pada peta, arah utara selalu berada di atas. Sementara itu, arah selatan berada di bawah.

6. Indeks

Indeks adalah daftar nama pada atlas. Daftar nama pada indeks disusun berdasarkan abjad. Fungsi indeks memberi keterangan halaman, kode tempat dan nama. Contoh, Cirebon, 25 C4. Artinya, kota Cirebon berada di halaman 25, kode C menunjukkan lokasi kotak dari kiri ke kanan. Adapun kode 4 menunjukkan lokasi pada kotak dari atas ke bawah.

C. Macam Skala pada Peta

Skala pada peta ada dua yaitu skala angka dan skala garis.

1. Skala angka

Skala angka merupakan perbandingan jarak pada peta dengan keadaan yang sebenarnya. Skala dinyatakan dengan angka.

Contoh:

Jika pada peta tertulis skala 1 : 1.400.000.

Artinya, setiap 1 cm pada peta sama dengan 1.400.000 cm di lapangan atau 14 km jarak sebenarnya di

permukaan bumi.

2. Skala garis

Skala garis adalah skala yang menunjukkan perbandingan jarak pada peta dengan keadaan yang sebenarnya berbentuk garis.

D. Menggambar Peta

Terdapat beberapa cara untuk membuat peta. Mulai dari yang mudah dilakukan hingga menggunakan alat. Cara menggambar peta, antara lain menjiplak dan membuat kotak.

1. Menjiplak


Menjiplak merupakan cara yang mudah membuat peta. Caranya dengan menggunakan kertas karbon.

Gambar peta asli dialaskan kertas karbon dan kertas kosong. Setelah itu, kamu hanya mengikuti gambar peta aslinya. Hasilnya pada kertas yang kosong tadi akan tergambar peta.

2. Membuat Kotak

Membuat kotak-kotak juga dapat mudah dilakukan. Caranya buatlah kotak-kotak pada peta aslinya. Kotak-kotak tersebut dibuat dengan ukuran sama besar. Buatlah kotak-kotak yang sama besar pada kertas kosong. Setelah itu, gambarlah sesuai dengan kotak yang ada pada peta asli.

Latihan

- Pada peta, puncak salju digambarkan dengan simbol warna
 - merah
 - biru
 - hijau
 - putih
- Gambar ▲, jika terdapat pada peta menunjukkan simbol
 - segitiga
 - kota
 - gunung
 - piramid
- Gambar lautan pada peta akan dilukiskan dengan warna
 - hijau
 - biru
 - merah
 - putih
- Simbol  pada peta menggambarkan
 - Ibukota Provinsi
 - Ibukota Negara
 - Ibukota Kabupaten
 - Kotamadya
- Jika dalam peta tertulis skala 1 : 350.000 maka setiap 1 cm pada jarak adalah
 - 35 km
 - 350 km
 - 0,35 km
 - 3,5 km
- Pada sebuah peta, gambar yang di atas akan menunjukkan arah mata angin
 - utara
 - timur
 - selatan
 - barat
- Untuk memperbesar atau memperkecil gambar peta digunakan bantuan garis
 - katulistiwa
 - koordinat
 - bujur
 - lintang
- Segitiga merah pada gambar dalam peta merupakan simbol
 - gunung berapi
 - gunung tertinggi
 - pegunungan
 - gunung
- Kumpulan peta-peta yang dibukukan disebut
 - legenda
 - keterangan
 - atlas
 - globe
- Perbandingan jarak di peta dengan sebenarnya adalah
 - judul
 - legenda
 - simbol
 - petunjuk arah

Isilah titik-titik dibawah ini dengan tepat.

- Dalam peta berwarna dataran tinggi digambarkan dengan warna
- Dalam peta berwarna untuk menunjukkan batas wilayah ialah
- Skala pada peta diwujudkan dalam bentuk angka dan
- Peta yang disajikan dalam bentuk buku disebut
- Kita akan memahami garis bujur dan garis lintang pada peta yang bulat. Peta tersebut dinamakan
- Pada peta berwarna warna kuning untuk menggambarkan
- Untuk meletakkan judul peta ditulis pada bagian
- Petak segi empat dalam peta untuk menggambarkan
- Kota kecil digambarkan dengan
- Untuk lebih memudahkan membaca isi peta melihat

Jawablah pertanyaan berikut dengan benar.

21. Jelaskan perbedaan antara peta dengan atlas.
22. Sebutkan kelengkapan peta yang dapat mempermudah dan memperjelas dalam membaca peta.
23. Jelaskan cara menggambar peta dengan menggunakan kotak.
24. Apakah artinya skala 1 : 3.500.000?
25. Di provinsi manakah kamu tinggal? Sebutkan batas-batas provinsi tempat tinggalmu.

Kenampakan Alam dan Sosial Budaya



Ringkasan Materi

A. Kenampakan Alam

Bentangan alam berupa daratan dan perairan disebut kenampakan alam.

1. Wilayah Daratan

Negara Indonesia merupakan negara berbentuk kepulauan. Jumlah pulau di negara kita sekitar 18.810. Pulau merupakan suatu wilayah daratan yang luas. Satu pulau dengan pulau yang lain dihubungkan dengan laut ataupun selat.

- a. Pulau Jawa dengan Pulau Sumatra dihubungkan Selat Sunda.
- b. Pulau Kalimantan dengan Pulau Sulawesi dihubungkan Selat Makasar.
- c. Pulau Sumatra dengan Pulau Kalimantan dihubungkan Selat Karimata.
- d. Pulau Jawa dan Pulau Bali dihubungkan Selat Bali.

Jenis-jenis bentuk daratan di Indonesia, antara lain.

a. Dataran rendah

Dataran rendah adalah wilayah yang memiliki ketinggian 0–200 m di atas permukaan laut. Dataran rendah merupakan wilayah yang paling diminati oleh manusia. Hal ini dikarenakan wilayahnya yang mudah dijangkau. Dataran rendah banyak dimanfaatkan manusia untuk kegiatan pertanian, perumahan

dan sebagainya.

b. Dataran tinggi

Dataran tinggi adalah wilayah yang memiliki ketinggian lebih dari 200 m di atas permukaan laut. Dataran tinggi biasanya memiliki udara yang sejuk. Pada wilayah dataran tinggi juga banyak dilakukan aktivitas pertanian. Pertanian yang ditanam berupa teh, kopi, sayur-sayuran dan buah-buahan.

Selain itu, manfaat lain yang dapat diperoleh dari gunung berapi, yaitu

- 1) Menghasilkan barang tambang.
- 2) Sebagai objek pariwisata.
- 3) Lahan subur cocok untuk kegiatan pertanian,
- 4) dan lain-lain.

c. Gunung

Gunung adalah daerah yang lebih tinggi dari daerah sekitarnya. Gunung terdiri atas gunung mati dan berapi. Gunung yang ada di Indonesia sangat bermanfaat bagi kehidupan manusia. Hal ini dikarenakan pada wilayah sekitar gunung api merupakan wilayah yang subur.

d. Pegunungan

Pegunungan adalah daerah berbukit-bukit yang memanjang. Pegunungan mempunyai ketinggian lebih dari 1500 m di atas permukaan laut. Wilayah pegunungan yang ada di Indonesia cukup banyak. Umumnya wilayah pegunungan digunakan untuk tempat rekreasi. Hal ini karena pegunungan memiliki udara yang sejuk. Di samping itu juga banyak dilakukan kegiatan pertanian dan perkebunan.

e. Dataran pantai

Dataran pantai adalah batas antara daratan dengan laut. Indonesia merupakan negara kepulauan. Hal ini menyebabkan Indonesia banyak memiliki pantai. Pantai yang ada di Indonesia dimanfaatkan untuk tujuan wisata. Adapun wisata yang datang berasal dari dalam maupun luar negeri. Wilayah pantai dianggap sebagai wilayah yang memiliki daya tarik.

f. Tanjung

Tanjung adalah daratan yang menjorok ke laut. Tanjung yang ada di Indonesia jumlahnya cukup banyak. Wilayah tanjung dapat dimanfaatkan sebagai pelabuhan.

2. Wilayah Perairan

Wilayah perairan Indonesia lebih luas dibandingkan daratan. Pulau-pulau yang ada di Indonesia dikelilingi oleh perairan.

Jenis-jenis bentuk perairan di Indonesia, antara lain.

a. Laut

Pernahkah kalian pergi ke laut? Bagaimana perasaan kalian? Laut adalah perairan yang sangat luas dan dalam. Air laut terasa asin karena mengandung garam. Laut yang ada di Indonesia dibagi menjadi dua, yaitu laut dangkal dan dalam. Laut dapat menghasilkan ikan, rumput laut, dan sebagainya.

Laut yang ada di Indonesia memiliki daya tarik. Hal ini dapat terlihat dari banyaknya wisatawan yang datang ke laut.

Bagian-bagian dari laut adalah sebagai berikut.

1) Selat

Selat adalah laut sempit yang terletak di antara dua pulau. Indonesia banyak memiliki selat.

Selat-selat tersebut menghubungkan antara satu pulau dengan pulau lainnya.

2) Teluk

Teluk adalah laut yang menjorok ke daratan. Pada umumnya teluk ini digemari oleh wisatawan.

Oleh wisatawan teluk menjadi tempat wisata yang indah dan menarik.

b. Sungai

Sungai adalah air yang mengalir di daratan. Air sungai mengalir dari hulu menuju hilir. Sumber air sungai berasal dari mata air, air hujan, dan campuran. Jenis sungai ada yang besar serta panjang dan sempit serta pendek.

Sungai dapat bermanfaat dalam kehidupan sehari-hari. Contohnya untuk irigasi sawah, pertanian, budidaya ikan dengan keramba, objek pariwisata, PLTA (Pembangkit Listrik Tenaga Air) bahkan ada yang digunakan untuk transportasi (angkutan).

Sungai yang besar dan panjang dimanfaatkan untuk pelayaran, lalu lintas kapal dan sebagainya. Sungai ini banyak ditemui di Sumatra dan Kalimantan. Sungai yang ada di Pulau Jawa berupa sungai kecil dan pendek. Sungai di Jawa dimanfaatkan sebagai pengairan lahan pertanian, dan pembangkit listrik.

Sungai dapat bermanfaat dalam kehidupan sehari-hari.

c. Danau

Danau merupakan cekungan berisi air yang luas. Danau biasanya dikelilingi oleh dataran. Danau ada dua, yaitu dibuat oleh manusia dan terbentuk oleh alam. Danau yang dibuat manusia disebut danau

buatan. Adapun danau yang terbentuk oleh alam disebut danau alami. Danau memiliki ukuran yang besar dan kecil. Danau dapat dimanfaatkan untuk rekreasi, pengairan, dan sebagainya.

B. Sosial Budaya

Manusia merupakan makhluk sosial. Untuk itu, manusia selalu berhubungan dengan sesama. Manusia harus mampu menyesuaikan diri (adaptasi) di lingkungannya. Khususnya di lingkungan tempat tinggalnya.

Indonesia memiliki kebudayaan yang beragam. Setiap budaya memiliki kekhasan. Sebagai generasi penerus kalian harus melestarikan kebudayaan. Keragaman budaya yang ada di Indonesia dapat dilihat sebagai berikut.

1. Bahasa

Suku bangsa di Indonesia memiliki bahasa yang berbeda-beda. Nama bahasa diambil dari nama suku bangsa tersebut. Misalnya, suku Jawa menggunakan bahasa Jawa. Suku bangsa di Indonesia umumnya menggunakan dua bahasa. Bahasa yang digunakan adalah bahasa Indonesia dan bahasa daerah. Bahasa Indonesia digunakan untuk mempermudah komunikasi.

2. Adat Istiadat (Tradisi)

Adat istiadat masing-masing suku bangsa berbeda-beda. Adat istiadat setiap suku bangsa dipertahankan. Adat istiadat tersebut berupa upacara pernikahan, kelahiran, kematian dan sebagainya. Sebagai contoh pada masyarakat Bali terdapat upacara Ngaben. Ngaben adalah acara pembakaran mayat di Bali bagi masyarakat beragama Hindu.

3. Pakaian Daerah

Pakaian daerah menggambarkan keanekaragaman budaya Indonesia. Indonesia memiliki 33 provinsi. Pakaian adat tiap provinsi berbeda-beda. Selain itu, pakaian adat setiap provinsi memiliki keunikan dan kekhasan. Pakaian adat umumnya digunakan pada upacara adat.

4. Kesenian Daerah

Bentuk-bentuk kesenian daerah di Indonesia cukup beragam. Kesenian tersebut seni tari, seni musik, lagu-lagu daerah, dan lain-lain. Masing-masing provinsi memiliki keunikan ragam kesenian.

C. Peristiwa Alam dan Pengaruhnya Terhadap Kehidupan Sosial

Peristiwa alam sering terjadi dalam kehidupan sehari-hari. Peristiwa alam ada yang merugikan dan menguntungkan. Peristiwa alam atau yang telah dikenal dengan bencana alam. Peristiwa alam yang terjadi memengaruhi kehidupan sosial. Peristiwa bukan hanya berpengaruh terhadap kehidupan sosial. Akan tetapi, peristiwa alam juga berpengaruh terhadap lingkungan alam. Peristiwa-peristiwa alam yang berpengaruh terhadap kehidupan sosial, antara lain

a. Banjir

Banjir merupakan peristiwa alam yang terjadi pada musim hujan. Faktor penyebab banjir karena alam dan ulah manusia. Banjir karena faktor alam berupa curah hujan yang tinggi. Banjir karena faktor manusia berupa membuang sampah sembarangan, penebangan pohon, dan sebagainya.

Peristiwa banjir berpengaruh terhadap kehidupan sosial. Contohnya rumah-rumah banyak terendam, menimbulkan penyakit, bahkan kadang menimbulkan korban jiwa. Selain itu, aktivitas masyarakat akan lumpuh jika banjir tidak surut.

b. Gempa bumi

Gempa bumi adalah getaran pada permukaan bumi yang berasal dari dalam bumi. Gempa bumi sering terjadi di Indonesia. Kekuatan getaran gempa bumi diukur dengan skala *Richter*.

Gempa bumi di bagi menjadi dua jenis, yaitu

- 1) Gempa tektonik adalah gempa yang terjadi karena pergeseran lapisan permukaan bumi. Gempa ini dapat terjadi di daratan dan laut.
- 2) Gempa vulkanik adalah gempa yang terjadi di sekitar gunung api yang akan meletus. Gempa ini hanya terasa di daerah sekitar gunung tersebut.

Gempa bumi berkekuatan lemah biasanya tidak menimbulkan banyak kerugian. Lain halnya dengan gempa bumi berkekuatan besar. Seringkali dapat menimbulkan kerugian. Seperti kehilangan tempat tinggal, korban jiwa dan sebagainya.

Gempa yang terjadi di laut dapat menimbulkan gelombang tsunami.

c. Gunung meletus

Indonesia merupakan negara yang banyak memiliki gunung api. Gunung api di Indonesia tersebar di Sumatra, Jawa, Nusa Tenggara, Sulawesi, Maluku, dan Papua. Hanya Kalimantan yang tidak memiliki gunung api.

Gunung api menimbulkan bahaya. Seperti awan panas, hujan abu, banjir lahar, dan sebagainya. Selain itu, gunung api juga mendatangkan manfaat. Manfaatnya adalah tanah menjadi subur. Kesuburan tanah tersebut digunakan masyarakat untuk kegiatan pertanian.

d. Tanah longsor

Tanah longsor sering terjadi pada musim hujan. Akhir-akhir ini, wilayah-wilayah di Indonesia sering mengalami tanah longsor. Faktor penyebabnya berupa penebangan hutan secara liar. Hal ini mengakibatkan tanah menjadi gundul. Tanah yang gundul pada saat hujan mudah longsor. Adapun penyebabnya tanaman yang berfungsi sebagai penyerap air sudah tidak ada.

Tanah longsor yang terjadi dapat menimbulkan kerugian. Kerugian yang dirasakan masyarakat berupa korban jiwa, harta benda, dan sebagainya. Tanah longsor banyak terjadi pada daerah yang berlereng.

D. Pengaruh Perilaku Masyarakat Terhadap Peristiwa Alam

Terjadi peristiwa alam sekarang ini disebabkan oleh alam dan oleh manusia. Peristiwa alam akibat proses alam dapat terjadi kapan saja. Peristiwa alam akibat proses alam sulit untuk dihindari. Peristiwa alam tersebut berupa gempa bumi, gunung meletus, tsunami, angin topan, dan sebagainya. Selain itu, terdapat peristiwa alam yang terjadi akibat ulah manusia.

Peristiwa alam akibat ulah manusia itu dapat dihindari atau dicegah. Peristiwa alam akibat ulah manusia berupa banjir, tanah longsor, polusi, dan sebagainya. Peristiwa alam yang terjadi belakangan ini terjadi karena ulah manusia. Perilaku masyarakat yang tidak ramah terhadap alam penyebab terjadinya peristiwa alam. Perilaku tersebut berupa membuang sampah sembarangan, penebangan hutan, pembakaran hutan, dan sebagainya.

Peristiwa alam akibat alam dapat dicegah. Pencegahan itu berupa perubahan perilaku masyarakat yang menjadi ramah lingkungan dan selalu menjaga lingkungan.

Latihan

1. Laut yang terletak di antara dua pulau disebut
 - a. selat
 - b. tanjung
 - c. teluk
 - d. ujung
2. Gempa yang disebabkan oleh gunung berapi disebut
 - a. gempa tektonik
 - b. gempa vulkanik
 - c. tsunami
 - d. gempa patahan
3. Sungai Batanghari terdapat di provinsi
 - a. NAD
 - b. Kalimantan Selatan
 - c. Jambi
 - d. Jawa Tengah
4. Di Provinsi Bali terdapat gunung
 - a. Tinombala
 - b. Agung
 - c. Krakatau
 - d. Kalung
5. Mata pencaharian masyarakat di tepi pantai pada umumnya sebagai
 - a. petani
 - b. nelayan
 - c. pedagang
 - d. pelukis
6. Kebiasaan membuang sampah di sungai akan menyebabkan
 - a. penyakit
 - b. gempa bumi
 - c. tanah longsor
 - d. banjir
7. Udara yang bersih dan segar pada umumnya kita rasakan di daerah
 - a. industri
 - b. perkotaan
 - c. wisata
 - d. pedesaan
8. Aliran sungai yang luas dan dalam dapat digunakan untuk sarana
 - a. komunikasi
 - b. transportasi
 - c. pemancingan
 - d. hiburan
9. Air di lautan memiliki rasa yang khas, karena mengandung
 - a. garam
 - b. batu karang
 - c. rumput laut
 - d. pasir
10. Gunung Rinjani terdapat di provinsi
 - a. NTB
 - b. NAD
 - c. NTT
 - d. DKI

Isilah titik-titik di bawah ini dengan tepat.

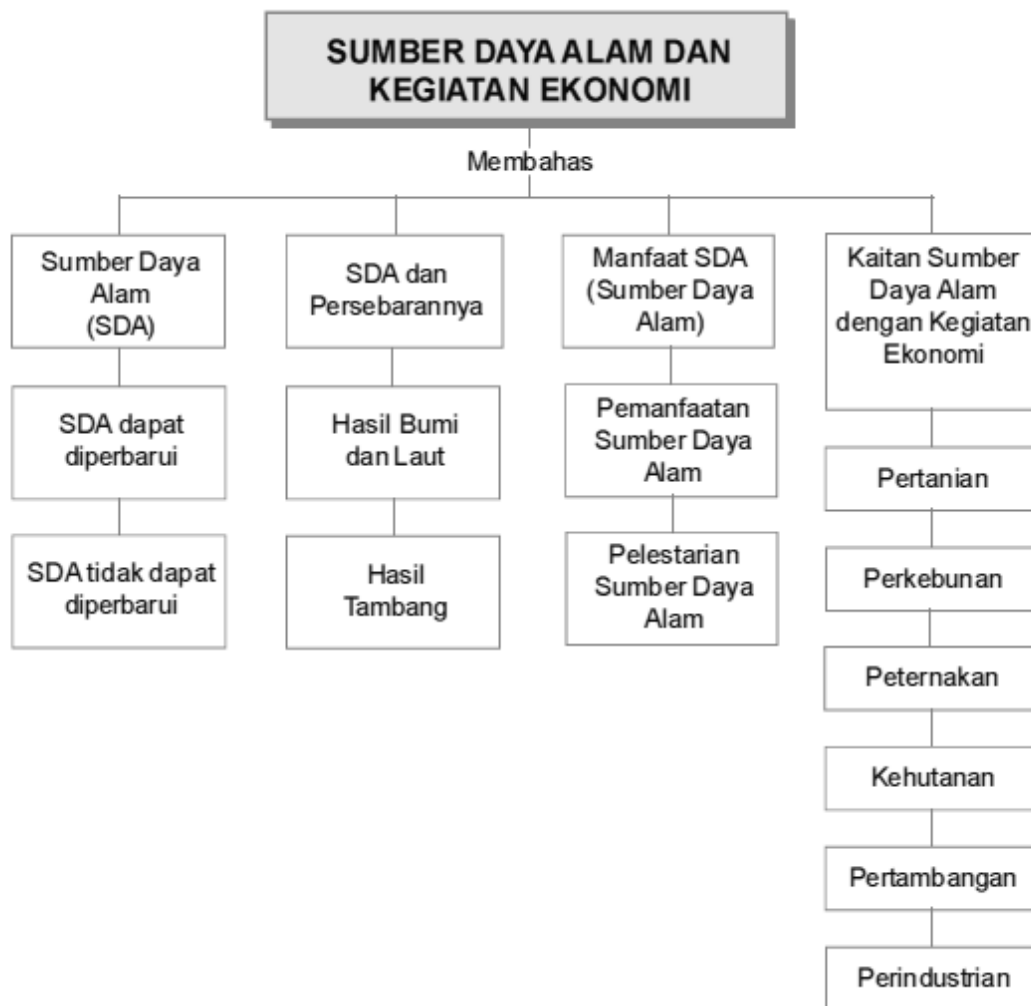
11. Peristiwa alam yang disebabkan oleh gempa bumi di laut adalah
12. Danau terbesar yang terdapat di Sumatra Utara adalah
13. Gunung Leuser terdapat di provinsi
14. Penebangan hutan secara liar menyebabkan bahaya
15. Daratan yang menjorok ke laut disebut
16. Selat Makasar menghubungkan Pulau Kalimantan dengan Pulau
17. Daratan di sepanjang tepi laut disebut
18. Danau Batur terdapat di provinsi

19. Genangan air yang luas dan dikelilingi oleh daratan disebut
20. Tanah longsor adalah bencana alam yang terjadi pada musim

Jawablah pertanyaan di bawah ini dengan benar.

21. Sebutkan keuntungan gunung berapi bagi manusia.
22. Apakah kegunaan laut bagi manusia?
23. Sebutkan peristiwa yang sering terjadi di Indonesia?
24. Upaya apa yang dapat dilakukan untuk mencegah tanah longsor?
25. Sebutkan tiga manfaat sungai bagi kehidupan?

SDA dan Kegiatan Ekonomi



Ringkasan Materi

A. Sumber Daya Alam

Sumber daya alam adalah kekayaan alam yang terdapat di bumi. Bentuknya dapat berupa benda mati maupun makhluk hidup. Sumber daya alam disediakan oleh alam. Ada yang langsung memanfaatkan sumber daya alam. Namun, ada pula yang masih harus diolah agar dapat dimanfaatkan.

Berdasarkan keberadaan dan kelestariannya sumber daya alam dibedakan menjadi dua. Di antaranya sumber daya alam yang dapat diperbarui dan sumber dalam alam yang tidak diperbaharui.

1. Sumber daya alam yang dapat diperbarui

Sumber daya alam yang dapat diperbarui adalah kekayaan alam yang dapat diadakan kembali. Meskipun sumber daya tersebut telah habis dimanfaatkan. Sumber daya alam tersebut berupa udara, air, dan tanah. Sumber daya alam ini termasuk sumber daya alam nonhayati (tidak hidup).

a. Udara

Seluruh makhluk hidup membutuhkan udara untuk bernafas. Tanpa makan dan minum dalam beberapa hari kita masih dapat hidup. Akan tetapi, tanpa udara kita hanya bertahan beberapa menit. Udara adalah campuran beberapa gas. Di antaranya oksigen, karbon dioksida, nitrogen, dan argon. Gas yang penting dalam kehidupan makhluk hidup adalah oksigen. Selain oksigen, karbon dioksida dibutuhkan tumbuhan untuk fotosintesis. Oleh sebab itu, makhluk hidup membutuhkan udara yang bersih. Udara yang telah kotor (tercemar) justru menjadi racun. Upaya yang dilakukan agar udara yang kotor kembali bersih adalah dengan menanam pohon.

b. Air

Manusia, hewan, dan tumbuhan selalu membutuhkan air. Air merupakan sumber daya alam yang dapat diperbarui. Dengan kata lain keberadaan air di bumi tetap. Keberadaan air di bumi tetap dipengaruhi oleh siklus air. Meskipun jumlah air tetap, namun penggunaannya harus bijaksana. Dengan demikian, air tidak tercemar dan tetap bersih.

Sumber air di bumi dapat didapat di sungai, danau, laut, dan mata air. Air yang digunakan oleh manusia adalah air tanah. Air tanah dapat diperoleh di sungai, danau, dan mata air. Manfaat-manfaat air dalam kehidupan, antara lain transportasi, pertanian, perikanan, PLTA, dan sebagainya.

c. Tanah

Tanah merupakan sumber daya alam yang sangat penting bagi kehidupan. Tanah dapat diperbarui. Tanah adalah lapisan atas bumi yang terbentuk dari batuan-batuan yang lapuk. Secara alami, tanah akan terbentuk secara berlapis-lapis. Lapisan paling atas selalu terbentuk oleh humus.

Humus berasal dari proses pelapukan. Seperti binatang dan tumbuhan yang telah mati dan membusuk. Pelapukan tersebut terjadi secara terus-menerus. Pelapukan tersebut kemudian akan membentuk struktur tanah. Manfaat tanah dalam kehidupan sangat banyak. Di antaranya pemukiman, pertanian, perkebunan, peternakan, dan sebagainya.

2. Sumber daya alam yang tidak dapat diperbarui

Sumber daya alam yang tidak dapat diperbarui adalah sumber daya alam yang tidak dapat diadakan kembali setelah digunakan.

Sumber daya alam yang tidak dapat diperbarui terdapat dalam perut bumi. Barang-barang yang terdapat dalam perut bumi disebut barang tambang. Barang tambang tersebut ada yang berbentuk logam, mineral, dan bukan logam. Apabila telah habis digunakan tidak dapat diadakan lagi. Oleh sebab itu, dalam pemanfaatannya dibutuhkan pengaturan. Selain itu, penggunaannya perlu dihemat agar tidak lekas habis.

a. Barang Tambang Logam

Barang tambang logam, antara lain besi, emas, perak, timah, tembaga, bauksit, nikel, dan mangan.

b. Barang Tambang Bukan Logam

Barang-barang tambang bukan logam, antara lain minyak bumi, gas alam, dan batu bara.

c. Barang Tambang Mineral

Mineral termasuk barang tambang bukan logam. Di antaranya batu kapur, yodium, kalsit, asbes, dan belerang.

B. Manfaat Sumber Daya Alam

1. Pemanfaatan Sumber Daya Alam

Sumber daya alam harus dimanfaatkan sebaik mungkin. Dengan demikian, sumber daya alam tersebut dapat terus kita nikmati. Sumber daya alam yang ada di Indonesia bermanfaat untuk pemenuhan hidup masyarakat. Pemanfaatan sumber daya alam antara kota dan desa berbeda-beda. Pada daerah perkotaan sumber daya alam diolah secara modern. Lain halnya dengan daerah pedesaan yang masih tradisional. Selain itu, kebutuhan sumber daya alam di perkotaan lebih besar dibandingkan di pedesaan. Namun, sumber daya alam yang dimanfaatkan tersebut digunakan untuk meningkatkan kesejahteraan masyarakat.

Apabila hanya dimanfaatkan saja, kekayaan alam akan makin berkurang. Akhirnya, akan habis sama sekali. Apabila hal itu terjadi, maka makhluk hidup akan menderita. Terutama manusia yang paling banyak

memanfaatkan sumber daya alam. Kemiskinan akan terjadi. Mungkin pula akan timbul kelaparan. Supaya tidak lekas habis, perlu upaya pelestarian. Kekayaan alam harus dilestarikan agar dapat dimanfaatkan terus-menerus. Untuk itu, manusia wajib selalu berusaha melestarikan alam.

Cara melestarikan kekayaan alam adalah sebagai berikut.

- a. Sumber daya alam tidak dapat diperbarui harus digunakan secara hemat. Agar sumberdaya alam tersebut dapat terus dinikmati. Selain itu, sumber daya alam yang dapat diperbarui pemanfaatannya juga harus bijaksana.
- b. Mencari bahan pengganti untuk sumber daya alam yang mudah habis.
- c. Upaya perlindungan dilakukan dengan membuat suaka margasatwa dan cagar alam. Suaka margasatwa adalah perlindungan terhadap hewan. Khususnya pada hewan langka agar tidak punah. Cagar alam adalah perlindungan terhadap hutan atau tumbuh-tumbuhan.
- d. Penanaman pohon kembali (reboisasi).
- e. Pembuatan terasering untuk mencegah erosi. Selain itu, kesuburan tanah tetap terjaga.
- f. Mengolah limbah agar aman sebelum dibuang. Dengan demikian, limbah tidak akan merusak lingkungan.

C. Kaitan Sumber Daya Alam dengan Kegiatan Ekonomi

1. Pertanian

Dalam hidupnya, manusia selalu berusaha memenuhi kebutuhannya. Kegiatan manusia dalam rangka memenuhi kebutuhan hidupnya disebut dengan kegiatan ekonomi. Sumber daya alam berkaitan dengan kegiatan ekonomi. Kegiatan ekonomi memanfaatkan keberadaan sumber daya alam. Berikut adalah beberapa kegiatan ekonomi yang memanfaatkan sumber daya alam.

Kesuburan tanah Indonesia baik digunakan untuk kegiatan pertanian. Indonesia dikenal sebagai negara agraris. Oleh karena sebagian besar penduduk bekerja di bidang pertanian. Kegiatan pertanian berguna untuk menyediakan kebutuhan pangan.

Tanaman yang diusahakan dalam kegiatan pertanian, antara lain padi, jagung, sayur mayur, dan sebagainya. Penduduk juga menanam jagung dan palawija. Produksi palawija diolah menjadi makanan pelengkap. Contohnya, jagung dibuat keripik. Ada pula produksi hortikultura yang ditanam di pekarangan rumah. Hasilnya berupa buah-buahan, cabai, tomat, dan sebagainya.

2. Perkebunan

Kegiatan perkebunan juga memanfaatkan kesuburan tanah. Perkebunan yang ada di Indonesia diusahakan oleh perorangan dan pemerintah. Hasil perkebunan di Indonesia berupa kopi, teh, kelapa sawit, tebu, karet, kopra, dan sebagainya. Beberapa hasil tanaman perkebunan itu ada yang dijadikan barang ekspor. Ekspor hasil pertanian tersebut menghasilkan devisa bagi negara. Perkebunan dapat dikelola rakyat maupun swasta. Dalam pengelolaan perkebunan dikenal Perkebunan Inti Rakyat (PIR). PIR banyak ditemui di Pulau Sumatra.

3. Peternakan

Kegiatan peternakan banyak diusahakan di Indonesia. Peternakan mempunyai peranan penting dalam meningkatkan kesejahteraan rakyat. Selain itu, peternakan dapat menambah penghasilan rakyat. Jenis hewan ternak di Indonesia cukup banyak. Hewan ternak itu, antara lain sapi, kerbau, kambing, ayam, burung, dan sebagainya. Hewan ternak tersebut umumnya menghasilkan daging, susu, telur, kulit, dan sebagainya.

4. Perikanan

Sebagian besar wilayah Indonesia berupa perairan. Perairan tersebut meliputi perairan darat maupun laut. Kegiatan perikanan yang dilakukan di Indonesia meliputi perikanan darat dan laut.

a. Perikanan darat

Usaha perikanan ini dilakukan di perairan darat, seperti sungai, danau, kolam dan empang. Jenis ikan yang dibudidayakan adalah ikan mas, gurame, mujahir, tawas, lele, dan sebagainya.

b. Perikanan laut

Wilayah perairan laut Indonesia yang luas berpotensi menghasilkan ikan yang melimpah. Jenis ikan laut yang ditangkap adalah tongkol, tuna, bawal, kembung, teri dan sebagainya. Saat ini tengah dikembangkan perikanan di tambak pantai. Hal ini telah dilakukan di pantai utara Jawa dan pantai timur Sumatra. Hasilnya meliputi kerang, udang, dan rumput laut.

5. Kehutanan

Indonesia banyak memiliki hutan. Hal tersebut dikarenakan kondisi iklim yang menunjang, yaitu beriklim tropis. Jenis hutan yang ada di Indonesia adalah hutan hujan tropis. Hutan menghasilkan sumber daya alam melimpah. Di antaranya kayu, rotan, damar, getah perca, dan getah agatis. Hasil hutan tersebut dimanfaatkan untuk kebutuhan perumahan, perabotan rumah tangga, industri, dan sebagainya.

6. Pertambangan

Berbagai jenis barang tambang banyak ditemukan di Indonesia. Kegiatan pertambangan adalah kegiatan pengambilan sumber daya alam dari dalam bumi. Jenis barang tambang yang terdapat di Indonesia, antara lain minyak bumi, batu bara, emas, perak, bauksit, bijih besi, dan sebagainya. Barang-barang tambang tersebut digunakan untuk kegiatan industri, transportasi, dan sebagainya.

7. Perindustrian

Industri merupakan kegiatan mengolah bahan mentah menjadi barang jadi. Bahan mentah yang belum diolah tersebut diperoleh dari alam. Kegiatan perindustrian membutuhkan sumber daya alam. Industri dapat menambah nilai guna barang. Indonesia memiliki industri yang cukup berkembang.

Industri-industri tersebut di antaranya:

- Alat-alat berat terdapat di Surabaya, Jawa Timur.
- Gas alam terdapat di Kalimantan Selatan.
- Kapal terdapat di Semarang, Jawa Tengah.
- Karet terdapat di Jambi, Jawa Barat, dan Kalimantan Barat.
- Kereta api terdapat di Madiun dan Yogyakarta.
- Pemintalan benang terdapat di Jawa Barat (Patal Bandung), Jawa Tengah (Patal Cilacap, Patal Semarang, dan Patal Tegal).
- Industri Pesawat Terbang Nusantara (IPTN) terdapat di Bandung.

Latihan

- Sumber daya alam di bawah ini yang tidak dapat diperbarui adalah
 - air
 - minyak
 - tanah
 - hutan
- Tanah dapat dilestarikan karena adanya
 - daun membusuk
 - kotoran dan sampah
 - emas dan karang
 - belut dan kepiting
- Barang tambang nonlogam adalah
 - nikel
 - belerang
 - minyak bumi
 - batu kapur
- Merupakan hasil perkebunan adalah ...
 - padi
 - cokelat
 - jagung
 - kedelai
- Perindustrian banyak terdapat di
 - pedesaan
 - pegunungan
 - persawahan
 - perkotaan
- Ayam, kambing, dan sapi dihasilkan dari
 - pertanian
 - peternakan
 - perkebunan
 - pedesaan
- Suaka alam Ujung Kulon berada di provinsi
 - Banten
 - Lampung
 - Jawa Barat
 - DKI Jakarta
- Kayu gelondongan merupakan kekayaan alam hasil
 - pertanian
 - perkebunan
 - hutan
 - perikanan
- Rotan sebagai hasil hutan dapat dimanfaatkan untuk
 - kebutuhan rumah tangga
 - bahan anyaman
 - bahan baku mainan
 - bahan industri kerajinan
- Hasil kekayaan dari laut adalah ...
 - udang dan kerang
 - pasir dan rumput
 - emas dan kerang
 - belut dan kepiting

Isilah titik-titik di bawah ini dengan tepat.

- Bahan baku pembuatan pesawat terbang adalah
- Bensin dan solar merupakan sumber daya alam yang
- Tanah di pegunungan cocok untuk usaha
- Hasil hutan yang banyak diambil adalah
- Penanaman hutan kembali disebut
- Contoh hewan ternak adalah
- Minyak bumi dan gas alam merupakan barang tambang
- Perlindungan terhadap hutan dan tumbuh-tumbuhan disebut
- Jenis hutan yang ada di Indonesia adalah
- Tanah pertanian yang subur banyak terdapat di Pulau

Jawablah pertanyaan berikut dengan tepat.

- Apakah yang dimaksud sumber daya alam?
- Sebutkan empat hasil dari perkebunan
- Berilah contoh tiga sumber daya alam yang dapat diperbarui.
- Bagaimana sikap terhadap keterbatasan sumber daya alam?

25. Sebutkan contoh sumber daya alam yang tidak dapat diperbarui.

Suku Bangsa dan Budaya



Ringkasan Materi

A. Bhinneka Tunggal Ika

1. Makna Bhinneka T unggal Ika

Negara Indonesia adalah negara kepulauan. Pulau-pulaunya didiami oleh berbagai suku bangsa. Keragamannya menyebabkan keragaman adat dan budayanya. Keanekaragaman suku bangsa tidak menyebabkan perpecahan. Akan tetapi, semakin memperkokoh dan memperkuat bangsa kita. Hal ini tercermin dalam semboyan negara kita.

Kamu tentu pernah ataupun sering mendengar kata "Bhinneka Tunggal Ika". Artinya walaupun berbeda-beda suku, adat, budaya dan bahasa daerahnya, tetapi tetap satu yaitu bangsa Indonesia. Bhinneka Tunggal Ika diambil dari buku Sutasoma karangan Empu Tantular. Seorang pujangga pada masa pemerintahan Majapahit. Kalimat selengkapnya adalah "**Bhinneka Tunggal Ika Tan Hana Dharma Mangrwa**". Artinya, walaupun berbeda tetapi tetap satu jua adanya karena tidak ada agama yang tujuannya berbeda. Kerukunan hidup bangsa tercipta dan berkembang sejak dahulu.

2. Persatuan dan Kesatuan

Keragaman suku bangsa dan budaya merupakan kekuatan. Hal ini tidak terpisahkan dalam kehidupan bernegara. Sejarah telah membuktikan persatuan dan kesatuan bangsa, ternyata dapat mengusir penjajah. Ketika bangsa Indonesia mengalami kegagalan. Dikarenakan kita belum bersatu. Pada saat itu kita masih bercerai-berai. Keadaan tersebut menyebabkan perjuangan mudah untuk dipatahkan.

B. Ragam Suku Bangsa dan Budaya

1. Suku Bangsa

Bangsa Indonesia terdiri atas berbagai suku bangsa. Berbagai suku bangsa mendiami pulau seluruh Indonesia. Mulai dari Sabang sampai Merauke. Indonesia terdiri atas lima pulau besar. Pulau tersebut adalah Sumatra, Jawa, Kalimantan, Sulawesi, dan Papua. Setiap satu pulau didiami lebih dari satu suku bangsa. Setiap suku bangsa memiliki kehidupan beragam. Mulai dari yang masih primitif hingga modern. Penyebab perbedaan kehidupan tersebut dipengaruhi oleh keadaan lingkungan. Setiap suku bangsa memiliki bentuk dan keragaman adat istiadat. Beberapa suku bangsa Indonesia yang perlu kamu ketahui adalah:

a. Suku Bangsa Jawa

Suku Jawa tersebar di seluruh wilayah Indonesia. Namun, aslinya mereka menempati wilayah Jawa Tengah, D.I. Yogyakarta, dan Jawa Timur. Bahasa yang mereka gunakan adalah bahasa Jawa. Masyarakatnya hidup bertani. Keterampilan khas yang mereka miliki, yaitu membatik, menganyam, dan memahat. Masyarakat Jawa memiliki budi bahasa yang halus. Mereka adalah pekerja keras dan hormat kepada tradisi leluhur.

b. Suku Bangsa Sunda

Suku Sunda kita temui di Jawa Barat dan sekitarnya. Mereka menggunakan bahasa Sunda. Bahasa Sunda hampir sama dengan bahasa Jawa. Suku Sunda memiliki karya sastra yang terkenal. Di antaranya adalah cerita pantun, cerita tentang kepahlawanan di Sunda. Masyarakat Sunda umumnya bekerja sebagai petani. Selain itu juga berkebun. Hasil perkebunan yang banyak dihasilkan, yaitu teh dan sayur mayur.

c. Suku Bangsa Batak

Suku bangsa ini menempati wilayah Sumatra Utara. Suku bangsa Batak terdiri atas berbagai kelompok. Di antaranya Batak Karo, Mandailing, Toba, Angkola, dan Simalungun. Masyarakat Batak hidup bertani dan beternak.

d. Suku Bangsa Dayak

Suku bangsa Dayak menempati wilayah Kalimantan Tengah. Bahasa yang mereka gunakan adalah bahasa Dayak dan bahasa Nguju. Masyarakat Dayak hidup bertani, berburu ke hutan, dan menangkap ikan. Selain itu, para ibu-ibu di rumah mengerjakan anyaman rotan. Meskipun kita dibedakan oleh suku bangsa. Namun, persatuan dan kesatuan harus tetap dijunjung. Hal ini karena kita satu bangsa, yaitu bangsa Indonesia. Untuk mengetahui berbagai suku bangsa yang ada di Indonesia, perhatikan tabel berikut ini.

No.	Nama Provinsi	Nama Suku Bangsa
1.	Nanggroe Aceh Darussalam	Aceh, Gayo, Tamiang, Alas, dan Simeulue
2.	Sumatra Utara	BatakToba, Batak Karo, Batak Mandailing, Nias, dan Simalungun
3.	Sumatra Barat	Minangkabau, Tanjung Koto, Panyalai, dan Mentawai
4.	Riau	Sakai, Hutan, Melayu, Bunai, Kubu, dan Akit
5.	Jambi	Kerinci, Melayu, Penghulu, Batin, Kubu
6.	Bengkulu	Enggano, Rejang Lebong, Gumai, Kur, dan Serawi
7.	Sumatra Selatan	Komering, Palembang, Samedan, Ranau, dan Ogan
8.	Bangka Belitung	Bangka, Belitung, dan Mendanau
9.	Lampung	Rawas, Melayu, Semendo, Pubian, dan Abung
10.	Banten	Badui
11.	Jawa Barat	Sunda
12.	DKI Jakarta	Betawi
13.	Jawa Tengah	Jawa, Samin, dan Karimun
14.	DI Yogyakarta	Jawa
15.	Jawa Timur	Madura, Jawa, Osing, dan Tengger
16.	Kalimantan Barat	Dayak, Ngaju, Murut, Puanan, dan Apokayan
17.	Kalimantan Timur	Bulungan, Tidung, Abai, dan Kayan
18.	Kalimantan Selatan	Banjar Hulu, dan Banjar Kuala
19.	Kalimantan Tengah	Ngaju, Lawang, Dusun, dan Bukupai
20.	Sulawesi Utara	Sangir Talaud, Minahasa, dan Bantik
21.	Gorontalo	Gorontalo
22.	Sulawesi Tengah	Mori, Banggai, Kuwali, Kaali, dan Balatar
23.	Sulawesi Tenggara	Muna, Buton, Wolia, dan Balatar
24.	Sulawesi Selatan	Bone, Bugis, Toraja, Makasar, dan Selayar
25.	Bali	Bali
26.	NTB	Sasak, Bima, Dongo, Sumbawa, dan Dompu
27.	NTT	Flores, Sumba, Sabu, Rote, dan Timor
28.	Maluku	Ambon, Ali Furu, Faru, Aru, dan Togite
29.	Maluku Utara	Obi, dan Temate
30.	Papua	Dani, Asmat, Sentani, Mooi, Kaure Dera, Manen, Morwap, dan Molof

2. Budaya Setempat

Keragaman suku bangsa menghasilkan budaya yang beragam. Bentuk keragaman itu berupa pakaian adat, rumah adat, tarian daerah, lagu daerah, alat musik daerah, adat istiadat setempat/upacara adat, serta makanan khas daerah.

a. Pakaian Adat

Pakaian adat dipakai pada acara khusus. Salah satunya berupa pesta perkawinan, upacara adat, dan sebagainya.

Beberapa contoh pakaian adat dari provinsi di Indonesia, yaitu

- 1) Jawa Tengah :
 - Tutup kepala pria blangkon
 - Baju wanita kebaya
 - Baju pria beskap.
- 2) Sumatra Barat : Baju teluk belango dan saluak.
- 3) Riau : Baju destar.
- 4) Kalimantan Selatan: Baju rompi dan destar.

b. Rumah Adat

Setiap suku bangsa memiliki rumah adat. Bentuknya bermacam-macam. Memiliki nilai artistik yang beraneka ragam. Atapnya bentuknya beragam. Ada yang berbentuk limas, kerucut, dan sebagainya. Pernahkah kalian berkunjung ke Taman Mini Indonesia Indah (TMII) di Jakarta? Di TMII ini terdapat berbagai rumah adat.

c. Tarian dan Lagu

Tiap-tiap daerah mempunyai tarian daerah. Tarian mencerminkan ciri khas daerah tersebut. Tarian daerah dipentaskan pada waktu upacara adat dan menyambut tamu kehormatan. Selain itu, untuk menarik para wisatawan domestik maupun mancanegara.

Selain tarian, ada pula lagu daerah. Lagu daerah bagian dari kesenian daerah. Masing-masing daerah memiliki lagu daerah. Lagu tersebut biasanya menunjukkan ciri khas daerah. Selain itu, juga memiliki alat musik daerah.

d. Alat Musik Tradisional

Alat musik tradisional sangat beragam. Alat musik berguna mengiringi lagu dan tarian. Selain itu, alat musik juga untuk menghibur.

3. Menghargai Keragaman

Budaya daerah merupakan akar budaya nasional. Menghargai keragaman budaya akan memperkokoh persatuan dan kesatuan. Persatuan dan kesatuan merupakan kekuatan bangsa. Kekuatan itu untuk menuju ke arah kemajuan. Perbedaan masing-masing daerah wajib kita hargai. Baik dalam kehidupan di lingkungan rumah, sekolah, dan masyarakat.

Cara menghargai keragaman di antaranya adalah

- a. Senang belajar budaya daerah lain.
- b. Gemar melihat pertunjukan atau pentas budaya daerah.
- c. Tidak menganggap rendah budaya daerah lain.
- d. Menghindari sikap kedaerahan.
- e. Menghormati budaya daerah secara positif.
- f. Tidak merendahkan budaya daerah lain.

C. Melestarikan Budaya Bangsa


Kehidupan daerah merupakan bagian dari kebudayaan nasional. Untuk itu kita wajib melestarikan budaya. Hal ini berguna agar budaya tetap lestari.

Melestarikan budaya daerah dilakukan dengan cara sebagai berikut.

1. Pendidikan tentang budaya daerah.
2. Dilaksanakan lomba budaya daerah.
3. Diadakan pentas seni daerah.
4. Mendukung upaya pengembangan budaya daerah.

Latihan

1. Kalimat Bhinneka Tunggal Ika diambil dari bahasa
 - a. Jawa kuno
 - b. Indonesia
 - c. Sansekerta
 - d. Latin
2. Suku bangsa Badui berasal dari provinsi
 - a. Jawa Barat
 - b. Kalimantan Selatan
 - c. Jawa Tengah
 - d. Banten

3. Lagu Jali-Jali merupakan lagu khas dari
- Melayu
 - Bali
 - Minangkabau
 - Betawi
5. Gambar di samping merupakan tari dari daerah
- 
- Maluku
 - Bali
 - Sulawesi
 - Jawa Barat
7. Persatuan dan kesatuan bangsa perlu dilandasi sikap dan kebiasaan
- hidup rukun
 - hidup bersama
 - pertentangan
 - belajar bersama
9. Untuk melestarikan lagu daerah dapat dilakukan dengan cara
- menghafal lagu
 - lomba lagu
 - mengerti lagu
 - menirukan lagu
4. Alat musik Kolintang berasal dari
- Jawa
 - Sulawesi
 - Sunda
 - Maluku
6. Baju Teluk Belanga merupakan pakaian adat
- Sumatra Barat
 - Papua Barat
 - Kalimantan Barat
 - Sulawesi Utara
8. Terhadap budaya daerah lain di Indonesia kita berkewajiban untuk
- dihormati
 - dikagumi
 - diacuhkan
 - diketahui
10. Apabila mendengarkan temanmu menyanyikan lagu dari daerahnya, sikapmu adalah
- tidak senang
 - senang dan saya menghormati
 - tidak mendengar
 - menutup kuping

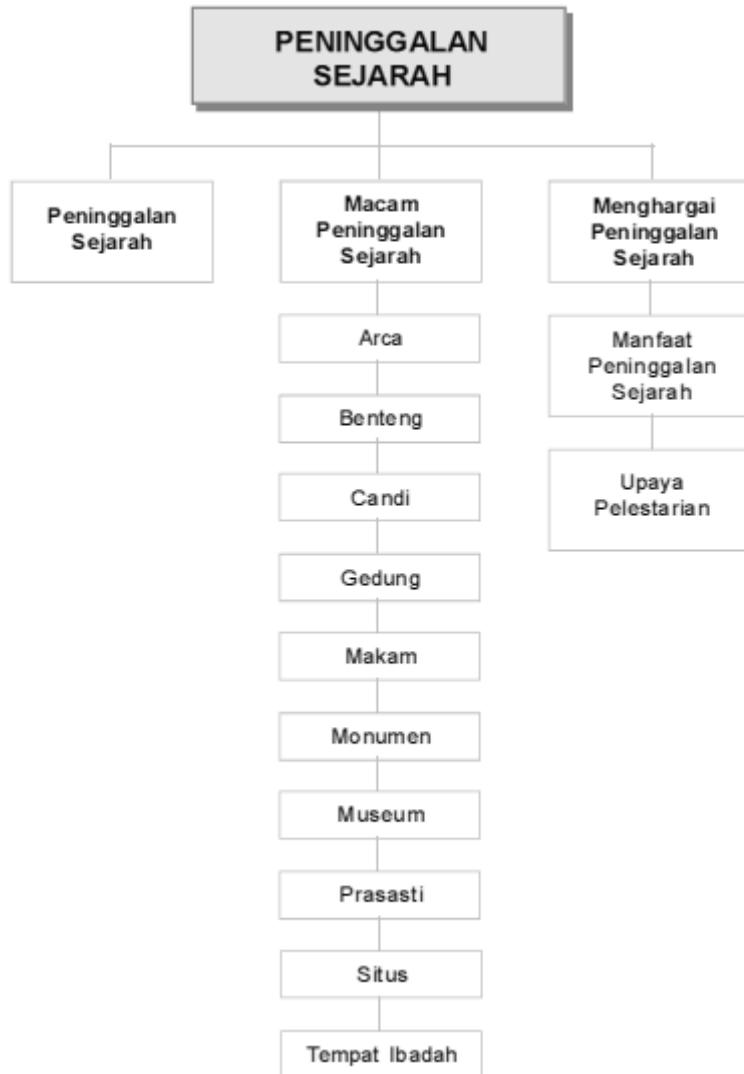
Isilah titik-titik di bawah ini dengan tepat.

- Kalimat Bhinneka Tunggal Ika diambil dari buku
- Hidup saling menghormati, bekerja sama, dan rukun akan membentuk rasa
- Tari Maengket berasal dari daerah
- Pergaulan antarsuku di Indonesia menggunakan bahasa
- Salah satu makanan khas dari Padang adalah
- Nama lain rumah adat suku Asmat adalah
- Upacara pembakaran mayat di Bali disebut
- O Ina Ni Keke adalah lagu daerah yang berasal dari
- Suku bangsa Tengger berada di daerah
- Bersatu kita teguh bercerai

Jawablah pertanyaan di bawah ini dengan benar .

- Sebutkan dua cara menghormati budaya daerah.
- Apakah yang dapat dilakukan untuk melestarikan budaya daerah?
- Jelaskan pengertian “Bhinneka Tunggal Ika”.
- Sebutkan tiga rumah adat beserta asal daerahnya.
- Sebutkan tiga suku bangsa dari Sumatra Barat.

Peninggalan Sejarah



Ringkasan Materi

A. Macam Peninggalan Sejarah

Indonesia merupakan negara yang luas wilayahnya. Dengan demikian, suku bangsa dan budayanya juga beraneka ragam. Termasuk juga peninggalan sejarah bangsa kita juga banyak sekali.

Bangsa kita dikenal memiliki budaya yang luhur. Benda-benda peninggalan sejarah nenek moyang bernilai tinggi.

1. Arca

Arca adalah patung, ada yang terbuat dari batu ada juga yang terbuat dari perunggu.

- Arca Buddha Amarawati di Sulawesi Selatan.
- Arca Roro Jonggrang di Candi Prambanan.
- Arca Airlangga di Belahan.
- Arca Tribhuwana di Candi Arimbi.

2. Benteng

Benteng merupakan bentuk bangunan yang sengaja dibuat untuk keamanan dan pertahanan pada waktu perang.

- Benteng Otanah di Sulawesi untuk melindungi Raja.
- Benteng Fort de Kock di Sumatra Barat dibangun oleh Belanda.
- Benteng Portugis di Jepara, Jawa Tengah.
- Benteng Pendem di Cilacap, Jawa Tengah.

- Benteng Jagaraga, Bali.
- Benteng Duurstede, Saparua, Maluku.
- Benteng Sombaupu, Sulawesi Selatan.
- Benteng Inong Bale, NAD.

3. Candi

Bangunan kuno yang dibuat dari batu sebagai tempat pemujaan, penyimpanan abu jenazah raja atau pendeta Hindu dan Buddha pada zaman dulu, disebut candi.

- Candi Prambanan di Yogyakarta.
- Candi Borobudur di Magelang, Jawa Tengah.
- Candi Mendut di Magelang, Jawa Tengah.
- Candi Pawon di Magelang, Jawa Tengah.
- Candi Panataran di Jawa Timur.
- Candi Muara Takus di Riau.
- Candi Ijo di Kalimantan Selatan.

4. Gedung

Gedung yang pernah digunakan untuk berlangsungnya peristiwa sejarah, atau tempat tertentu yang bernilai sejarah dijadikan sebagai peninggalan sejarah.

- Gedung Lawang Sewu di Semarang.
- Istana Presiden di Tampak Siring, Bali.
- Istana Raja / Keraton, Cirebon, Surakarta, Yogyakarta.
- Istana Bogor, Jawa Barat.

5. Makam

Banyak sekali makam yang dijadikan sumber sejarah dan peninggalan sejarah, antara lain

- Makam Raja-raja Surakarta dan Yogyakarta di Imogiri, Yogyakarta.
- Makam Pangeran Diponegoro di Makassar, Sulawesi Selatan.
- Makam RA. Kartini di Rembang, Jawa Tengah.
- Makam Ir. Soekarno Presiden RI Pertama di Blitar, Jawa Timur.
- Makam Sunan Kalijaga di Demak, Jawa Tengah.

6. Monumen

Bangunan yang sengaja dibuat untuk mengenang jasa seseorang tokoh kepada nusa dan bangsa. Bahkan juga untuk memperingati peristiwa bersejarah yang ada di Indonesia.

Beberapa monumen di Indonesia, yaitu:

- Monumen Nasional (Tugu Monas) di Jakarta.
- Monumen Tugu Muda di Semarang.
- Monumen Proklamasi di Jakarta.
- Monumen Palagan Ambarawa di Semarang.
- Monumen Pers Nasional di Solo, Jawa Tengah.

7. Museum

Gedung, rumah, tempat yang digunakan untuk menyimpan benda-benda peninggalan sejarah disebut Museum. Beberapa di antaranya:

- Museum Sudirman di Magelang, Jawa Tengah.
- Museum Satria Mandala di Jakarta.
- Museum Purbakala di Sangiran, Sragen, Jawa Tengah.
- Museum RA Kartini di Jepara, Jawa Tengah.

8. Prasasti

Prasasti adalah tulisan pada batu yang bernilai sejarah. Prasasti yang merupakan peninggalan pada masa kerajaan-kerajaan di Indonesia banyak sekali, misalnya:

- Prasasti Ciareteun, Kebon Kopi, Jambu, Pasir Awi, Muara Cianten dari Kerajaan Tarumanegara. Prasasti tersebut ditulis menggunakan bahasa Sansekerta.
- Prasasti Kedukan Bukit, Talang Tuo, Telaga Batu, Kota Kapur, Karang Birahi dari Kerajaan Sriwijaya. Prasasti tersebut ditulis menggunakan bahasa Melayu.
- Prasasti Tuk Mas, Sojomerto, Canggal dari Kerajaan Mataram.

9. Situs

Situs adalah daerah temuan benda-benda purbakala, seperti fosil binatang purba. Banyak situs di Indonesia yang merupakan peninggalan Hindu dan Buddha, misalnya:

- Situs Muara Jambi.
- Situs Plawangan.
- Situs Cilongok.

10. Tempat Ibadah

Tempat ibadah yang dibangun pada masa lampau dan masih berdiri hingga sekarang, antara lain

- Masjid Agung Demak di Demak, Jawa Tengah.
- Masjid Menara Kudus di Kudus, Jawa Tengah.
- Gereja Portugis di Jakarta.
- Masjid Baiturrahman di NAD sekarang.

11. Kitab

Kitab banyak menghiasi peninggalan sejarah. Terutama pada masa Kerajaan Hindu-Buddha.

- a. Kitab pada masa Kerajaan Majapahit
 - *Sutasoma*, kitab ini dikarang oleh Mpu Tantular. Di dalamnya terdapat istilah *Bhinneka Tunggal Ika*.
 - *Negarakertagama*, kitab ini dikarang oleh Mpu Prapanca. Istilah *Pancasila* diambil dari kitab ini.
- b. Kitab pada masa Kerajaan Kediri
 - *Arjunawiwaha*, kitab ini dikarang oleh Mpu Kanwa. *Arjunawiwaha* ditulis menggunakan bahasa Kawi. Kitab ini menceritakan kebesaran Raja Erlangga.
 - *Serat Bharatayudha*, *Hariwangsa*, dan *Smaradhana*

B. Menghargai Peninggalan Sejarah

Peninggalan sejarah yang sangat tinggi nilainya itu. Peninggalan sejarah tersebut bermanfaat bagi bangsa Indonesia, terutama bagi pelajar. Apakah manfaatnya bagi kita di dalam bidang pendidikan?

1. Manfaat Peninggalan Sejarah

Adapun manfaat peninggalan sejarah adalah sebagai berikut.

- a. Menambah kekayaan budaya bangsa kita.
- b. Menambah pendapatan negara melalui kegiatan wisata.
- c. Sebagai bukti nyata peristiwa sejarah yang dapat kita amati sekarang.
- d. Dapat menambah wawasan dan pengetahuan.
- e. Sangat membantu dalam bidang pendidikan.
- f. Dapat mempertebal rasa kebangsaan.
- g. Dapat memperkuat rasa persatuan.

2. Upaya Pelestarian Peninggalan Sejarah

Peninggalan sejarah banyak macam dan jenisnya. Manfaatnya juga banyak sekali. Untuk itu, bagaimana sikapmu terhadap peninggalan sejarah yang ada? Kita wajib menghargai peninggalan sejarah itu. Cara kita menghargai agar tetap lestari, antara lain

- a. memelihara peninggalan sejarah sebaik-baiknya,
- b. melestarikan benda sejarah tersebut agar tidak rusak,
- c. tidak mencoret-coret benda peninggalan sejarah,
- d. turut menjaga kebersihan dan keutuhan,
- e. wajib menaati tata tertib yang ada dalam setiap tempat peninggalan sejarah, dan
- f. wajib menaati peraturan pemerintah yang berlaku.

Pemerintah telah merawat peninggalan sejarah. Uluran tangan pihak swasta demi kelestarian benda sejarah tersebut sangat diperlukan. Perlunya perlindungan yang diberlakukan terhadap situs atau benda-benda sejarah. Sanksi terhadap pelanggaran yang merugikan upaya pelestarian peninggalan sejarah.

Latihan

1. Untuk dapat menghargai peninggalan sejarah, terlebih dahulu kita wajib mengetahui dan memahami
 - a. pelajaran sejarah
 - b. peristiwa sejarah
 - c. guru sejarah
 - d. jenis peninggalan sejarah
2. Museum Satria Mandala terdapat di kota
 - a. Surabaya
 - b. Banjarmasin
 - c. Jakarta
 - d. Semarang
3. Turut menjaga kebersihan dan keutuhan benda sejarah ketika kita mengunjungi tempat tersebut termasuk
 - a. menghargai peninggalan sejarah
 - b. menaati tata tertib
 - c. melestarikan benda sejarah
 - d. mempelajari sejarah
4. Kitab *Sutasoma* merupakan peninggalan sejarah dalam bentuk karya sastra pada masa
 - a. Kerajaan Sriwijaya
 - b. Kerajaan Majapahit
 - c. Kerajaan Tarumanegara
 - d. Kerajaan Singosari

5. Prasasti Kebon Kopi merupakan peninggalan sejarah kerajaan
 - a. Majapahit
 - b. Sriwijaya
 - c. Tarumanegara
 - d. Demak
7. Istana Presiden Tampak Siring terdapat di provinsi
 - a. Sumatra Barat
 - b. Jawa Tengah
 - c. Jawa Timur
 - d. Bali
9. Bangunan untuk menyimpan berbagai peninggalan sejarah disebut
 - a. prasasti
 - b. situs
 - c. istana
 - d. museum
6. Beberapa tempat peninggalan sejarah dapat bermanfaat sekali dalam bidang
 - a. pendidikan
 - b. perdagangan
 - c. perhubungan
 - d. perindustrian
8. Memberikan coretan yang tak bermanfaat pada candi merupakan perbuatan
 - a. tercela
 - b. terampil
 - c. terpuji
 - d. terkenal
10. Tugu Muda merupakan saksi sejarah terdapat di kota
 - a. Surabaya
 - b. Semarang
 - c. Medan
 - d. Bandung

Isilah titik-titik di bawah ini dengan tepat.

11. Candi Prambanan juga dikenal candi
12. Makam Pangeran Diponegoro terdapat di
13. Semboyan bangsa Indonesia Bhinneka Tunggal Ika diambil dari kitab Sutasomapada masa kerajaan
14. Monumen Pers Nasional terdapat di kota
15. Bangunan yang sengaja dibuat untuk pertahanan dalam perang dinamakan
16. Ir. Soekarno dimakamkan di kota
17. Situs sejarah mendapat perlindungan dari
18. Masjid Baiturrahman terdapat di provinsi
19. Museum Sudirman terdapat di
20. Adanya peninggalan sejarah dapat menambah

Jawablah pertanyaan di bawah ini dengan benar.

21. Sebutkan tiga upaya yang dapat dilakukan dalam melestarikan peninggalan sejarah.
22. Mengapa kita wajib mentaati peraturan atau tata tertib yang berlaku di tempat peninggalan sejarah.
23. Bagaimana sikap seorang pelajar menghargai peninggalan sejarah?
24. Sebutkan tiga peninggalan sejarah yang ada di provinsi tempat tinggalmu.
25. Siapakah yang wajib menjaga kelestarian peninggalan sejarah itu?

Kepahlawanan



Ringkasan Materi

A. Meneladani Tokoh

1. RA. Kartini

Raden Ajeng Kartini lahir di Jepara, Jawa Tengah. Pada tanggal 21 April 1879. Raden Ajeng Kartini adalah tokoh emansipasi wanita. Cita-citanya ingin mengangkat derajat wanita Indonesia. Agar wanita Indonesia mempunyai hak sama seperti kaum pria.

Kartini ingin melanjutkan sekolah yang lebih tinggi. Akan tetapi, tidak mendapat restu dari orang tuanya. Hobinya membaca buku. Buku yang dibaca adalah buku tentang wanita. Pada tahun 1903, Kartini membuka sekolah gadis di Jepara. Pada tahun 1913, Kartini mendirikan sekolah rendah. Sekolah itu bernama Sekolah Kartini. Sekolah itu untuk anak-anak perempuan.

Surat-surat ditulis Kartini dari tahun 1899–1904. Selanjutnya, dikumpulkan dan diterbitkan oleh Mr. Jaeques Henry Abendanon. Buku tersebut diterbitkan pada tahun 1911. Kumpulan surat-surat itu berjudul *Van Duisternis tot licht* (Habis Gelap Terbitlah Terang).

Buku tersebut diterjemahkan ke dalam bahasa Indonesia. Bukunya diterjemahkan oleh Armyn Pane. Selain itu, diterjemahkan pula ke dalam bahasa Sunda oleh Sacadibrata. Pada tanggal 17 September 1904 Kartini meninggal dunia. Saat itu Kartini berusia 25 tahun. Jasanya yang begitu besar maka setiap tanggal 21 April kita peringati sebagai Hari Kartini.

2. KH. Dewant ara

Semasa kecil Ki Hajar Dewantara bernama R.M. Suwardi Suryaningrat. Lahir di Yogyakarta tanggal 2 Mei 1889. Ia amat gemar membaca dan menulis.

Buku karangannya berjudul “Seandainya Aku Seorang Belanda”. Isinya berupa sindiran dan kecaman pedas kepada Belanda. Setelah Belanda mengetahui, Ki Hajar Dewantara diasingkan ke negeri Belanda. Kesempatan ini dimanfaatkan Ki Hajar Dewantara untuk belajar.

Setelah kembali ia mencurahkan perhatiannya di bidang pendidikan. Kepada anak didik ditanamkan rasa kebangsaan. Hal ini berguna agar mereka mencintai bangsa dan Tanah Air.

Ki Hajar Dewantara bersama dengan Ir. Sukarno, Drs. Moh Hatta, dan KH. Mas Mansur membentuk Pusat Tenaga Rakyat (Putera). Setelah Indonesia merdeka, Ki Hajar Dewantara menjabat sebagai Menteri Pendidikan Pengajaran dan Kebudayaan.

Ki Hajar Dewantara wafat pada tanggal 28 April 1959 di Yogyakarta. Ki Hajar Dewantara berjuang tanpa pamrih. Ki Hajar Dewantara merupakan tokoh berjasa dalam pendidikan.

B. Sikap Kepahlawanan

1. Kepahlawanan

Indonesia merdeka pada tanggal 17 Agustus 1945. Sebelumnya, Indonesia dijajah oleh Belanda dan Jepang. Pada zaman penjajahan kehidupan penuh dengan penderitaan. Hal ini karena semuanya telah diatur dan ditentukan oleh penjajah. Setelah merdeka, kita dapat hidup bebas. Tiada lagi aturan dan penindasan yang dilakukan penjajah.

Kemerdekaan Indonesia diperoleh melalui kerja keras, perjuangan dan pengorbanan pahlawan kita. Perjuangan pahlawan mendapat ridho dari Tuhan Yang Maha Esa. Hal itu terbukti dari kemerdekaan yang telah

diraih. Sikap kepahlawanan yang wajib kita teladani. Seperti rela berkorban, semangat, tak kenal menyerah, jujur, rajin, terampil, membela kebenaran dan tanpa pamrih.

Oleh karena itu, kita wajib bersyukur kepada Tuhan Yang Maha Esa. Selain adanya kemerdekaan berkat jasa pahlawan. Caranya dengan mempertahankan kemerdekaan yang telah diraih. Sebagai pelajar, kita wajib mengisi kemerdekaan. Caranya dengan kegiatan yang baik dan berguna. Sebagai contoh, belajar dengan rajin dan tekun. Kelak kamu menjadi generasi penerus bangsa. Penerus bangsa cerdas, terampil, dan berbudi pekerti luhur.

2. Patriotisme

Patriotisme adalah rasa kecintaan dan kesetiaan pada tanah air. Selain itu, juga bersedia mengorbankan segalanya. Sikap itulah yang pernah dimiliki oleh para pahlawan. Meskipun telah merdeka, tetapi sikap dan semangat harus ada. Mengapa demikian?

Untuk mengisi kemerdekaan diperlukan rasa cinta tanah air. Apabila semangat belajar tinggi maka akan memperoleh prestasi yang tinggi. Dengan demikian, cita-cita dapat tercapai. Jiwa patriot mengandung sikap pantang menyerah, rela berkorban, dan tidak putus asa. Sikap patriotisme tidak hanya pada waktu perang, namun dalam kehidupan sehari-hari.

C. Jasa Pahlawan

Pahlawan tidak selalu memanggul senjata di medan perang. Akan tetapi, berjuang pula melawan kebodohan dan keterbelakangan. Banyak sikap dan perilaku pahlawan yang wajib kita teladani. Berkat perjuangan para pahlawan kemerdekaan.

Sikap-sikap dalam mengisi kemerdekaan adalah sebagai berikut.

- a. Selalu membela yang benar.
- b. Bekerja sama mewujudkan rasa gotong royong.
- c. Giat belajar untuk mencapai cita-cita.
- d. Suka menolong dengan ikhlas.
- e. Tidak mudah putus asa dalam menghadapi kesulitan.
- f. Tidak malu bertanya jika menemui kesulitan.
- g. Mau menerima saran orang lain dengan senang.

Contoh cara menghargai jasa para pahlawan antara lain sebagai berikut.

- a. Berziarah ke Taman Makam Pahlawan (TMP).
- b. Pada waktu upacara mengikuti dengan khidmat.
- c. Ikut mendoakan arwah para pahlawan.
- d. Melanjutkan perjuangan sesuai keadaan sekarang.
- e. Turut menjaga bentuk peninggalan sejarahnya.
- f. Hidup rukun dan bersatu.
- g. Menaati tata tertib dan aturan yang berlaku.

Latihan

1. RA. Kartini merupakan tokoh wanita yang bercita-cita meningkatkan derajat
 - a. kaum pria
 - b. kaum bangsawan
 - c. kaum wanita
 - d. para penjajah
2. Ajaran Ki Hajar Dewantara yang terdapat dalam simbol pendidikan, yaitu
 - a. Taman Siswa
 - b. Tut Wuri Handayani
 - c. Kebangsaan
 - d. Pendidikan dan Pengajaran
3. Kumpulan surat RA. Kartini disusun dalam buku berjudul
 - a. Habis Gelap Terbitlah Terang
 - b. Sekolah Kartini
 - c. Emansipasi Wanita
 - d. Seandainya Aku Seorang Belanda
4. KH. Dewantara ditetapkan sebagai pahlawan
 - a. Kemerdekaan bangsa
 - b. Pendidikan dan pengajaran
 - c. Pergerakan Nasional
 - d. Taman Siswa
5. RA. Kartini dilahirkan di kota Jepara provinsi
 - a. Jawa Tengah
 - b. Banten
 - c. Jawa Timur
 - d. Jawa Barat
6. Sikap pahlawan dapat kita teladani adalah
 - a. tidak mudah putus asa
 - b. agar menjadi tokoh
 - c. minta imbal jasa
 - d. berjuang dengan pamrih

7. Peringatan Hari Kartini dilakukan setiap tanggal
 - a. 2 Mei
 - b. 14 Agustus
 - c. 5 Oktober
 - d. 21 April
8. Setelah wafat, RA. Kartini dimakamkan di kota
 - a. Jepara, Jawa Tengah
 - b. Rembang, Jawa Tengah
 - c. Blitar, Jawa Timur
 - d. Purwodadi, Jawa Tengah
9. Untuk mengenang jasa tokoh Ki Hajar Dewantara tanggal kelahirannya kita peringatisebagai
 - a. Hari Pendidikan
 - b. Hari Proklamasi
 - c. Hari Pahlawan
 - d. Hari Kemerdekaan
10. Ki Hajar Dewantara bagi bangsa Indonesia sebagai tokoh
 - a. pendidikan
 - b. sastra
 - c. kolonial
 - d. kebudayaan

Isilah titik-titik di bawah ini de ngan benar.

11. Bangsa yang besar adalah bangsa yang dapat menghargai
12. Tokoh pahlawan nasional oleh Bank Indonesia dicetak pada
13. Untuk mengenang perjuangan tokoh sejarah dibuat bangunan
14. Kekalahan Indonesia dalam menghadapi para penjajah dikarenakan
15. Pahlawan merupakan tokoh bangsa yang telah berjuang mencapai
16. Sebagai pelajar, mengisi kemerdekaan dengan cara
17. Rasa kecintaan dan kesetiaan pada tanah air disebut ...
18. Simbol pendidikan di Indonesia adalah
19. Putera dibentuk oleh
20. Salah satu sikap dalam mengisi kemerdekaan adalah

Jawablah pert anyaan di bawah dengan benar .

21. Jelaskan secara singkat perjuangan RA. Kartini.
22. Berikan contoh tiga sikap patriotisme yang dapat dilakukan di sekolah.
23. Bagaimanakah sikap Ki Hajar Dewantara terhadap penjajah
24. Apa yang dimaksud dengan patriotism
25. Sebutkan sikap menghargai kemerdekaan.

Ujian Semester 1

1. Gambar seluruh atau sebagian permukaan bumi yang dilukis kesuatu bidang datar dengan skala tertentu disebut
 - a. bumi
 - b. peta
 - c. tata surya
 - d. tanah
2. Batas gambar bagian tepi dari sebuah peta disebut
 - a. judul peta
 - b. legenda
 - c. garis tepi peta
 - d. warna
3. Tanda pada peta ini melambangkan
 - a. sungai
 - b. rawa
 - c. pelabuhan laut
 - d. danau
4. Taman Makam Pahlawan Kalibata terdapat di daerah
 - a. Bandung
 - b. Surabaya
 - c. Jakarta
 - d. Medan
5. Sebuah peta kabupaten memiliki skala 1 : 1.000.000. Jika jarakkota kecamatanmu ke kota kabupaten pada peta adalah 20 cm,maka jarak sebenarnya di bumi adalah
 - a. 100 km
 - b. 200 km
 - c. 20 km
 - d. 10 km
6. Segala sesuatu di alam atau di bumi yang menunjukkan ataumenampakan diri kepada kita disebut
 - a. kenampakan alam
 - b. peta
 - c. atlas
 - d. penampakan alam

7. Bagian daratan yang berbatasan langsung dengan laut adalah... .
 - a. sungai
 - b. pantai
 - c. daratan
 - d. rawa
9. Masyarakat yang tinggal di sekitar daerah pantai umumnya bekerjasebagai
 - a. sopir
 - b. peternak sapi
 - c. nelayan
 - d. pengusaha
11. Minyak bumi merupakan jenis sumber daya alam yang
 - a. dapat diperbarui
 - b. akan tumbuh kembali setelah dipakai
 - c. tidak dapat diperbarui
 - d. tidak akan pernah habis persediaannya
13. Tanah yang berasal dari endapan abu gunung api yang meletusdisebut
 - a. tanah vulkanik
 - b. tanah garam
 - c. tanah berpasir
 - d. tanah humus
15. Makanan pokok kebanyakan masyarakat Indonesia adalah
 - a. jagung
 - b. roti
 - c. nasi
 - d. ubi
17. Pengertian Bhinneka Tunggal Ika adalah
 - a. berbeda-beda dan tidak akan bersatu
 - b. berbeda-beda tetapi tetap satu
 - c. perbedaan adalah anugerah Tuhan
 - d. perbedaan menyebabkan kehancuran
19. Rumah Gadang merupakan rumah adat dari daerah
 - a. Sumatera Barat
 - b. Sumatera Utara
 - c. Sumatera Selatan
 - d. Lampung
21. Alat musik gamelan banyak terdapat di pulau
 - a. Sumatera
 - b. Sulawesi
 - c. Flores
 - d. Jawa
23. Gado-gado, ketoprak, nasi uduk, dan kerak telur adalah jenis-jenis makanan khas daerah
 - a. Jawa Barat
 - b. Betawi
 - c. Jawa Timur
 - d. Bali
25. Prasasti Ciaruteun terdapat di daerah
 - a. Jawa Barat
 - b. Jawa Tengah
 - c. Jawa Timur
 - d. Sulawesi Selatan
8. Gempa bumi yang disebabkan oleh letusan gunung berapidisebut gempa bumi
 - a. tektonik
 - b. vulkanik
 - c. mekanik
 - d. elektronik
10. Contoh sumber daya alam yang dapat diperbarui adalah... .
 - a. hutan
 - b. nikel
 - c. emas
 - d. batubara
12. Ada bermacam-macam hasil laut. Contohnya adalah
 - a. ikan dan udang
 - b. padi dan jagung
 - c. kopi dan teh
 - d. sapi dan kambing
14. Tanah yang berasal dari pelakukan organik disebut
 - a. tanah vulkanik
 - b. tanah garam
 - c. tanah gambut
 - d. tanah humus
16. Ada bermacam-macam hasil perkebunan, contohnya
 - a. karet dan cengkeh
 - b. padi dan kangkung
 - c. kedelai dan kacang
 - d. ikan dan udang
18. Kalimat Bhinneka Tunggal Ika terdapat dalam Kitab Sutasomakarangan
 - a. Mpu Gendring
 - b. Mpu Tantular
 - c. Mpu Panulug
 - d. Mpu Prapanca
20. Suku Bugis, Toraja, dan Minahasa berasal dari Pulau
 - a. Sumatera
 - b. Jawa
 - c. Sulawesi
 - d. Kalimantan
22. Lagu Ampar-ampar Pisang berasal dari daerah
 - a. Kalimantan Selatan
 - b. Kalimantan Barat
 - c. Nusa Tenggara Barat
 - d. Maluku
24. Sumber sejarah berupa prasasti, catatan-catatan, dan wasiatertulis termasuk jenis sumber sejarah
 - a. lisan
 - b. tuturan
 - c. tulisan
 - d. jenis fosil
26. Kebanyakan prasasti yang ditemukan di Indonesia ditulis dalambahasa
 - a. Jawa
 - b. Latin
 - c. Pallawa
 - d. Sanskerta

27. Gedung Stovia, gedung Proklamasi, dan gedung Sumpah Pemuda terdapat di
- Bandung
 - Jakarta
 - Surabaya
 - Medan
29. Cerita terjadinya suatu tempat yang dipercaya benar-benar terjadinya mempunyai latar belakang sejarah disebut
- mitos
 - dongeng
 - sage
 - legenda
31. Sikap kepahlawanan dan patriotisme dapat ditunjukkan oleh seorang siswa dengan berjuang
- demi kepentingan sendiri
 - demi kepentingan keluarganya
 - membela kepentingan Negara
 - dengan mengharapkan imbalan
33. Orang yang dengan suka rela bersedia mengorbankan dirinya bagi kepentingan orang lain memiliki sifat
- bertanggung jawab
 - mementingkan diri sendiri
 - rela berkorban
 - sopan
28. Benteng Duurstede terdapat di daerah
- Maluku
 - Jawa Barat
 - Sumatera Barat
 - Nangroe Aceh Darussalam
30. Tokoh sejarah yang pernah menyerbu dan mengalahkan tentara Portugis di kota Batavia (Jakarta) adalah
- Raden Mas
 - Fatahillah
 - Sultan Agung
 - Raden Patah
32. Ciri-ciri sikap kepahlawanan adalah
- berani dan sopan
 - berani dan gegabah
 - suka menolong dan rela berkorban
 - gotong royong dan sopan
34. Semangat cinta tanah air disebut juga
- kolonialisme
 - patriotism
 - nasionalisme
 - ideologisme

Isilah titik-titik di bawah ini!

- Buku kumpulan gambar peta disebut ...
- Bila kamu berdiri menghadap ke timur, maka di belakangmu adalah arah
- Gunung, lembah, sungai, dan danau, dikelompokkan sebagai kenampakan
- Pantai adalah batas antara ... dan
- Penduduk di daerah padang rumput melakukan usaha
- Bertani padi dilakukan penduduk yang tinggal di dataran... .
- Keindahan alam mempunyai daya tarik yang besar untuk ... 8. Penanaman kembali lahan yang gundul disebut
- Batu bara digunakan sebagai bahan bakar ..., ..., dan
- Padi, sayuran, dan palawija merupakan hasil usaha
- Gambang kromong adalah kesenian yang berasal dari
- Pempek adalah makanan khas dari daerah
- Rumah gadang adalah rumah adat daerah
- Sebelum berubah menjadi “Jakarta”, nama ibu kota Republik Indonesia bernama ..., ..., kemudian
- Makam Presiden pertama RI, Bung Karno, terdapat di

Jawablah soal-soal berikut ini!

- Sebutkan batas-batas wilayah provinsi mu!
- Tanaman apa saja yang biasa dipelihara di dataran tinggi?
- Sebutkan 5 macam hasil alam ada di provinsi mu!
- Sebutkan 4 usaha memanfaatkan air?
- Mengapa bangsa Indonesia harus bersatu?
- Suku bangsa apa saja yang tinggal di lingkungan RT-mu?
- Sebutkan 3 buah candi peninggalan sejarah!
- Sebutkan 4 peninggalan sejarah yang terdapat di provinsi mu!
- Sebutkan 10 orang pahlawan yang kamu kenal?
- Apa saja yang dapat kita lakukan untuk menghargai jasa para pahlawan?

Semester 2

Perekonomian Masyarakat



Ringkasan Materi

A. Pasar

Pasar adalah tempat bertemunya penjual dan pembeli. Untuk melakukan transaksi jual beli. Pasar menjual berbagai barang kebutuhan sehari-hari.

Pasar terdiri atas beberapa jenis.

1. Berdasarkan keberadaan barangnya, pasar dibedakan menjadi dua, yaitu :
 - a. Pasar Nyata

Pasar nyata adalah pasar yang melakukan transaksi langsung. Pasar nyata barang berada langsung di penjual. Barang-barang tersebut dipajang supaya menarik. Hal ini bertujuan menarik minat pembeli. Agar pembeli mau membeli barang.

- b. Pasar Tidak Nyata

Pasar tidak nyata hanya menunjukkan contoh barangnya. Barang diperlihatkan bila terjadi pembelian. Tawar menawar dapat dilakukan langsung maupun tidak langsung.

2. Berdasarkan sifat pasarnya, pasar dibedakan menjadi dua, yaitu :

- a. Pasar Tradisional

Pasar tradisional terjadi tanpa disengaja. Pada pasar ini, transaksi secara tradisional. Artinya, masih terjadi tawar menawar. Pasar tradisional bangunannya tidak rapi. Selain itu, bangunan tidak permanen.

- b. Pasar Modern

Pasar modern atau pasar swalayan (supermarket). Saat ini, pasar modern jumlahnya semakin bertambah. Pasar swalayan semakin banyak ditemui. Pada pasar swalayan pembeli melayani sendiri. Selain itu, tidak terjadi tawar menawar. Pada pasar modern bangunannya permanen dan rapi.

B. Uang

Kebutuhan hidup manusia setiap hari banyak sekali. Kebutuhan tersebut tidak dapat dipenuhi sendiri. Tetapi memerlukan tindakan dan bantuan orang lain. Dahulu untuk memenuhi kebutuhan dilakukan tukar menukar barang. Namun, sekarang hal itu jarang dilakukan. Penggantinya berupa uang. Uang sebagai alat tukar yang sah.

Fungsi uang di antaranya adalah sebagai berikut.

1. Sebagai alat penukar umum.
2. Sebagai satuan hitung.
3. Sebagai alat bayar.
4. Sebagai alat tabung.
5. Sebagai pembentuk modal.

Jenis uang dibedakan menjadi dua, yaitu uang kartal dan uang giral. Uang kartal berbentuk uang kertas dan uang

logam. Adapun uang giral berbentuk surat berharga.

Uang di negara kita dicetak oleh Bank Indonesia. Nilai nominal uang kertas di Indonesia yang tertinggi Rp100.000,00, Untuk uang logam nominal terbesar Rp1.000,00.

Tanda-tanda uang kertas, antara lain:

1. tertulis nilai uang dengan huruf,
2. terdapat nomor seri,
3. ada yang menggunakan benang/pita transparan,
4. terdapat angka tahun pembuatan,
5. ditandatangani oleh Dewan Gubernur,
6. terdapat tulisan Bank Indonesia,
7. ada gambar Garuda Pancasila,
8. terdapat gambar Pahlawan Nasional atau Tokoh Nasional, dan
9. tertulis angka nominal uang tersebut.

Uang dapat memperlancar kegiatan ekonomi. Selain itu, dengan uang kegiatan ekonomi lebih mudah.

C. Bank

Bank adalah tempat untuk menyimpan uang. Selain itu, memberikan kredit. Bank terdiri atas dua jenis, yaitu bank pemerintah dan swasta. Bank milik pemerintah misalnya BNI 1946, Bank Indonesia, BRI, dan BPD. Bank swasta antara lain BCA, Bank Danamon, Bank Lippo, dan sebagainya.

D. Aktivitas Ekonomi Rakyat

Lingkungan alam setempat memengaruhi kegiatan perekonomian. Di pedesaan umumnya usaha yang dilakukan berupa pertanian.

Akan tetapi, di perkotaan kegiatan ekonomi beragam, misalnya pegawai, karyawan pabrik, pedagang, pengusaha, industri, dan jasa. Adapun jenis perekonomian masyarakat tersebut akan diuraikan di bawah ini.

1. Agraris

Agraris adalah kegiatan mengolah tanah. Kegiatan ini bertujuan menghasilkan barang. Kegiatan agraris banyak mempergunakan sumber daya alam. Adapun kegiatan agraris adalah sebagai berikut.

- a. Pertanian adalah kegiatan bercocoktanam. Bertujuan menghasilkan bahanpangan. Hasil yang diperoleh padi,jagung, kacang, kedelai, dan sebagainya.
- b. Peternakan adalah pembudidayaanhewan ternak. Hewan ternak berupasapi, kuda, kerbau, kambing, sejenisunggas (hasilnya daging dan telur).
- c. Perkebunan merupakan bagian dariagraris. Tanaman yang ditanamdigunakan untuk keperluan industri.Hasil perkebunan berupa teh, kopi,cengkih, dan sebagainya.
- d. Kehutanan adalah kegiatan menggunakan hasil hutan. Selain itu, kegiatan kehutanandapat berupa pelestarian. Hasil hutan berupa kayu, rotan, dan damar
- e. Perikanan adalah kegiatan membudidayakan ikan. Hasil perikanan berupa bandeng,nila, lele, dan sebagainya.

2. Perdagangan

Perdagangan adalah kegiatan membeli barang dan menjualnya kembali tanpa proses pengolahan.

3. Industri

Industri adalah pengolahan bahan mentah menjadi barang jadi. Sebagai contoh pabrik sepatu, pabrik semen, pabrik kertas, produk makanan kaleng, pabrik cat.

4. Jasa

Jasa adalah usaha yang tidak menghasilkan barang. Bentuknya berupa pelayanan. Pelayanan tersebut membutuhkan keahlian dan keterampilan khusus. Pemakai jasa tidak menerima barang. Akan tetapi, pemakai merasakan hasil dari penyedia jasa tersebut. Misalnya, dokter memeriksa pasiennya atau tukang ojek yang siap mengantarkan kita.

Latihan

1. Kegiatan seseorang dalam masyarakat yang menghasilkan jasa adalah
 - a. petani sawah
 - b. nelayan
 - c. dokter
 - d. penganyam
2. Setiap uang kertas yang beredar di negara kita ditandatangani oleh
 - a. Gubernur Bank
 - b. Dewan Gubernur
 - c. Direksi Bank Indonesia
 - d. Perum Peruri

3. Terjadinya harga setelah melalui tawar menawar antara penjual dan pembeliberlangsung di
 - a. pasar
 - b. toko
 - c. swalayan
 - d. warung
5. Produksi barang dengan memanfaatkan pengolahan tanah disebut
 - a. industri
 - b. penjual jasa
 - c. agraris
 - d. pertanian
7. Di bawah ini merupakan kebutuhan pokok manusia adalah
 - a. perhiasan
 - b. makan
 - c. sepeda
 - d. TV
9. Contoh kebutuhan sekunder manusia adalah
 - a. sepeda motor
 - b. tempat tinggal
 - c. makan
 - d. pakaian
4. Sebelum ada uang sebagai alat pembayaran. Seseorang membutuhkan barang yang lain melalui
 - a. tukar menukar barang
 - b. titipan barang
 - c. gadai barang
 - d. makelar barang
6. Nilai uang yang tertinggi di negara kita adalah
 - a. Rp100.000,00
 - b. Rp300.000,00
 - c. Rp200.000,00
 - d. Rp400.000,00
8. Salah satu bank milik pemerintah adalah
 - a. BCA
 - b. Danamon
 - c. BPR
 - d. BPD
10. Jika seseorang terbukti memalsukan uang maka akan mendapatkan
 - a. hadiah
 - b. tabungan
 - c. hukuman
 - d. penghargaan

Isilah titik-titik di bawah ini dengan tepat.

11. Berdasarkan keberadaan barangnya, pasar dibedakan menjadi dua, yaitu
12. Uang dalam bentuk kertas dan logam disebut uang
13. Uang dapat memperlancar kegiatan
14. Gambar tokoh pahlawan Pangeran Pattimura terdapat pada uang kertas
15. Salah satu bank milik pemerintah adalah
16. Kegiatan mengolah tanah disebut
17. Kegiatan agraris bertujuan
18. Hasil perkebunan berupa
19. Usaha yang tidak menghasilkan barang disebut
20. Salah satu bentuk dari kegiatan jasa adalah

Jawablah pertanyaan di bawah ini dengan benar.

21. Apa yang dimaksud pasar.
22. Sebutkan kegiatan ekonomi masyarakat agraris.
23. Sebutkan tiga nama bank milik swasta.
24. Sebutkan tiga ciri-ciri yang terdapat pada uang kertas.
25. Sebutkan tiga keuntungan menabung di bank.

Koperasi



Ringkasan Materi

A. Sendi-sendi Koperasi

1. Pengertian

Koperasi adalah badan usaha yang beranggotakan orang seorang atau badan hukum koperasi dengan melandaskan kegiatannya berdasarkan prinsip koperasi sekaligus sebagai gerakan ekonomi rakyat yang berdasarkan atas asas kekeluargaan.

Koperasi berdasarkan keanggotaannya dibedakan menjadi dua, yaitu koperasi primer dan koperasi sekunder. Koperasi primer adalah koperasi yang didirikan oleh orang-orang dan beranggotakan orang-orang juga. Adapun koperasi sekunder adalah koperasi yang didirikan oleh koperasi yang beranggotakan koperasi juga.

Koperasi berdasarkan Pancasila dan Undang-Undang Dasar 1945 serta berdasarkan atas asas kekeluargaan.

2. Tujuan

Tujuan koperasi adalah untuk meningkatkan kesejahteraan anggota pada khususnya dan masyarakat pada umumnya. Selain itu, juga ikut membangun tatanan perekonomian nasional mewujudkan masyarakat yang maju, adil, dan makmur yang berlandaskan Pancasila dan Undang-Undang Dasar 1945.

Fungsi koperasi menurut Undang-undang Nomor 25 Tahun 1992 sebagai berikut.

- Membangun dan mengembangkan potensi dan kemampuan ekonomi anggota pada khususnya dan masyarakat pada umumnya untuk meningkatkan kesejahteraan ekonomi dan sosial.
- Koperasi berperan secara aktif dalam upaya mempertinggi kualitas kehidupan manusia dan masyarakat.
- Memperkokoh perekonomian rakyat sebagai dasar kekuatan dan ketahanan perekonomian nasional dengan koperasi sebagai soko gurunya.
- Mewujudkan dan mengembangkan perekonomian nasional berdasarkan asas kekeluargaan.

3. Prinsip

Koperasi yang merupakan kegiatan dalam bidang ekonomi, mempunyai prinsip sebagai berikut.

- Keanggotaan bersifat sukarela dan terbuka.
- Pengelolaan dilakukan secara demokratis.
- Pembagian Sisa Hasil Usaha (SHU) dilakukan secara adil sebanding dengan besarnya jasa usaha masing-masing anggota.
- Pemberian balas jasa yang terbatas terhadap modal.
- Kemandirian, pendidikan, dan kerja sama antara koperasi.

Anggota koperasi adalah pemilik dan sekaligus pengguna jasa koperasi. Keanggotaan koperasi dicatat dalam

buku anggota koperasi. Syarat untuk dapat menjadi anggota koperasi adalah setiap WNI yang dapat memenuhi syarat. Syarat-syarat tersebut telah ditetapkan dalam anggaran dasar. Keanggotaan koperasi didasarkan pada kesamaan kepentingan ekonomi.

4. Hak dan Kewajiban

Setiap anggota mempunyai hak dan kewajiban yang sama terhadap koperasi sebagaimana diatur dalam anggaran dasar.

a. Hak anggota

Adapun hak seorang anggota adalah sebagai berikut.

- 1) Menghadiri, berpendapat, dan memberikan suara dalam rapat anggota.
- 2) Memilih atau dipilih menjadi pengurus atau pengawas.
- 3) Memberikan pendapat atau saran kepada pengurus dan pengawas di luar rapat anggota.
- 4) Memanfaatkan koperasi dan mendapat pelayanan yang sama antar sesama anggota.
- 5) Mendapat keterangan mengenai perkembangan koperasi menurut ketentuandalam anggaran dasar.

b. Kewajiban anggota

Kewajiban seorang anggota adalah sebagai berikut.

- 1) Memenuhi anggaran dasar dan anggaran rumah tangga serta keputusan yang telah disepakati.
- 2) Berpartisipasi dalam kegiatan usaha yang diselenggarakan.
- 3) Mengembangkan dan memelihara kebersamaan atas asas kekeluargaan.

Antara hak dan kewajiban hendaklah seimbang dan berjalan beriringan. Hal ini sesuai dengan status keanggotaannya yang telah diatur dan disepakati dalam anggaran dasar dan anggaran rumah tangga maupun peraturan khusus.

B. Organisasi Koperasi

Organisasi koperasi terdiri atas rapat anggota, pengurus, dan pengawas. Kekuasaan tertinggi dalam koperasi adalah rapat anggota. Rapat tersebut dihadiri oleh anggota yang pelaksanaannya telah diatur dalam anggaran dasar. Rapat anggota dilaksanakan paling sedikit sekali dalam satu tahun.

Untuk pengesahan pertanggungjawaban pengurus dan pengawas paling lambat 6 bulan. Persyaratan, tata cara, dan tempat penyelenggaraan rapat anggota dan rapat anggota luar biasa, diatur dalam anggaran dasar.

1. Pengurus

Pengurus mempunyai tugas dan wewenang. Pengurus dipilih dari dan oleh anggota dalam rapat anggota. Pengurus sebagai pemegang kuasa rapat anggota. Masa jabatan pengurus paling lama 5 tahun.

Tugas pengurus koperasi adalah sebagai berikut.

- a. Mengelola koperasi dan usahanya.
- b. Menggunakan rancangan kerja.
- c. Menyelenggarakan rapat anggota.
- d. Mengajukan laporan keuangan dan pertanggungjawaban.
- e. Menyelenggarakan perbukuan keuangan dan inventaris secara tertib.
- f. Memelihara daftar buku anggota dan pengurus.

Wewenang pengurus koperasi, adalah sebagai berikut.

- a. Mewakili koperasi di dalam dan di luar pengadilan.
- b. Memutuskan penerimaan dan penolakan anggota baru serta pemberhentian anggotasesuai anggaran dasar.
- c. Melakukan tindakan dan upaya bagi kepentingan dan kemanfaatan koperasi sesuai tanggung jawab dari keputusan rapat anggota.
- d. Melalui keputusan rapat anggota, pengurus dapat mengangkat pengelola yang diberi wewenang dan kuasa untuk mengelola yang bertanggung jawab kepada pengurus.

2. Pengawas

Pengawas bertanggung jawab kepada rapat anggota. Persyaratan untuk dapat dipilih menjadi pengawas, ditetapkan dalam anggaran dasar. Pengawas dipilih dari dan oleh anggota dalam rapat anggota

Pengawas bertugas melakukan pengawasan terhadap pelaksanaan kebijaksanaan dan pengelolaan koperasi. Wewenang pengawas meneliti catatan yang ada pada koperasi. Pengawas harus merahasiakan hasil pengawasannya terhadap pihak ketiga.

3. Rapat Anggota

Unsur lain selain pengurus dan pengawas yang berperan dalam koperasi adalah rapat anggota. Rapat anggota dilaksanakan untuk menetapkan beberapa hal, antara lain

- a. anggaran dasar.
- b. kebijaksanaan umum.
- c. pemilihan, pengangkatan, pemberhentian pengurus dan pengawas.
- d. Membuat rencana kerja.
- e. Pengesahan pertanggungjawaban.

f. Pembagian sisa hasil usaha.

Pelaksanaan rapat anggota memiliki sifat sebagai berikut keputusan berdasarkan musyawarah untuk mencapai mufakat. Apabila mufakat tidak tercapai dilakukan pengambilan suara terbanyak.

4. Lambang Koperasi



- a. Rantai melambangkan persahabatan yang kekal.
- b. Gigi roda melambangkan usaha/karya yang terus-menerus
- c. Kapas dan padi melambangkan kemakmuran yang diusahakan dan yang harus dicapai oleh koperasi.
- d. Timbangan melambangkan keadilan sosial.
- e. Bintang dan perisai melambangkan Pancasila. Pohon beringin melambangkan sifat kemasyarakatan berkepribadian Indonesia yang kokoh dan berakar.
- f. Tulisan Koperasi Indonesia melambangkan kepribadian Koperasi Rakyat Indonesia.
- g. Merah putih melambangkan sifat nasional koperasi.

C. Modal dan Usaha Koperasi

1. Modal Koperasi

Modal koperasi terdiri atas modal sendiri dan modal pinjaman.

- a. Modal sendiri dapat berasal dari:
 - 1) Simpanan pokok,
 - 2) Simpanan wajib,
 - 3) Dana cadangan, dan
 - 4) Hibah.
- b. Modal pinjaman dapat berasal dari:
 - 1) Anggota,
 - 2) Koperasi lainnya,
 - 3) Bank dan lembaga keuangan lainnya,
 - 4) Penerbitan obligasi dan surat hutang lainnya, dan
 - 5) Sumber lain yang sah.

Selain modal sendiri dan modal pinjaman, koperasi dapat melakukan pemupukan modal yang berasal dari modal penyertaan. Modal penyertaan bersumber dari pemerintah maupun masyarakat.

2. Usaha Koperasi

Untuk meningkatkan usaha koperasi harus dilakukan secara produktif, efektif, dan efisien. Hal ini dapat memberikan nilai tambah dan manfaat yang sebesar-besarnya pada anggota yang tetap. Seperti memperoleh sisa hasil usaha yang wajar.

Agar koperasi dapat mewujudkan fungsi dan perannya, usaha yang dikembangkan adalah usaha dalam kehidupan ekonomi rakyat. Salah satu di antaranya adalah simpan pinjam.

Untuk mengembangkan usaha koperasi, pemerintah memberikan dorongan dalam bentuk kesempatan usaha yang seluas-luasnya, memantapkan menjadi koperasi yang sehat, tangguh dan mandiri, mengupayakan tata hubungan saling menguntungkan dengan badan usaha, membudayakan koperasi dalam masyarakat.

Adapun bimbingan dan kemudahan pemerintah terhadap koperasi adalah sebagai berikut.

- a. Pendidikan, pelatihan, penyuluhan, dan penelitian perkoperasian.
- b. Bimbingan usaha sesuai kepentingan ekonomi anggota.
- c. Kemudahan memperkuat permodalan.
- d. Pengembangan jaringan usaha koperasi.
- e. Memberikan bantuan konsultasi untuk mengatasi permasalahan koperasi.

D. Koperasi Sekolah

Koperasi sekolah adalah koperasi yang didirikan di lingkungan sekolah. Anggota-anggotanya terdiri atas siswa sekolah. Koperasi sekolah dapat didirikan pada berbagai tingkatan sesuai jenjang pendidikan. Sebagai contoh, koperasi sekolah dasar, koperasi sekolah menengah pertama, dan seterusnya. Koperasi tidak berbadan hukum. Pengurus dan pengelola koperasi sekolah dilakukan oleh para siswa di bawah bimbingan kepala sekolah dan guru-guru. Tanggung jawab ke luar koperasi sekolah dilakukan oleh kepala sekolah. Pembinaan terhadap koperasi sekolah dilaksanakan bersama antara Kantor Menteri Negara Koperasi Usaha Kecil dan Menengah serta

Departemen Pendidikan Nasional.

Koperasi sekolah tidak berbadan hukum seperti koperasi-koperasi lainnya karena siswa belum mampu melakukan tindakan hukum. Koperasi sekolah diharapkan menjadi sarana bagi pelajar untuk belajar melakukan usaha, mengembangkan kemampuan berorganisasi, mendorong untuk berinovasi, dan sebagainya.

Tujuan Koperasi Sekolah

Pembentukan koperasi sekolah dilaksanakan dalam rangka menunjang pendidikan siswa dan latihan berkoperasi. Dengan demikian, tujuan pembentukannya tidak terlepas dari tujuan pendidikan dan program pemerintah dalam menanamkan kesadaran berkoperasi sejak dini.

Perangkat Organisasi Koperasi Sekolah

- Rapat anggota koperasi sekolah.
- Pengurus koperasi sekolah.
- Pengawas koperasi sekolah.

Latihan

1. Koperasi dibentuk bertujuan untuk
 - a. meningkatkan kesejahteraan pengurus
 - b. memperoleh keuntungan besar
 - c. meningkatkan kesejahteraan anggota
 - d. menjual barang kebutuhan
2. Modal koperasi diperoleh dari
 - a. bantuan pemerintah
 - b. pinjaman bank
 - c. iuran anggota
 - d. penjualan saham
3. Keuntungan koperasi sebagai wujud hasil usaha adalah
 - a. saham
 - b. bunga bank
 - c. simpan pinjam
 - d. SHU
4. Koperasi yang menyediakan kebutuhan sehari-hari anggota disebut koperasi
 - a. konsumsi
 - b. simpan pinjam
 - c. produksi
 - d. serba usaha
5. Simpanan anggota pada koperasi yang dilakukan sekali selama menjadi anggotadisebut
 - a. simpanan pokok
 - b. simpanan sukarela
 - c. simpanan wajib
 - d. simpanan hari tua
6. Kemajuan koperasi menjadi tanggung jawab
 - a. pengurus koperasi
 - b. karyawan
 - c. badan pengawas
 - d. anggota dan pengurus
7. Kepanjangan dari SHU adalah
 - a. Setelah Hasil Usaha
 - b. Simpanan Harus Utuh
 - c. Semua Harus Usaha
 - d. Sisa Hasil Usaha
8. Pengurus koperasi dipilih oleh
 - a. anggota
 - b. pemerintah
 - c. badan pengawas
 - d. pengurus lama
9. Membayar simpanan pokok bagi anggota merupakan
 - a. kebiasaan
 - b. ketentuan
 - c. kewajiban
 - d. kebersamaan
10. Perkembangan usaha koperasi wajib didukung oleh
 - a. anggota dan pengurus
 - b. pengurus
 - c. badan pengawas
 - d. karyawan

Isilah titik-titik di bawah ini dengan tepat.

11. Koperasi yang anggotanya terdiri atas orang-orang saja disebut
12. Koperasi Indonesia berdasarkan pada Pancasila dan
13. Selain untuk meningkatkan kesejahteraan anggotanya, koperasi dapatmenyejahterakan
14. Pengelolaan koperasi dilakukan secara terbuka dan
15. Anggota koperasi adalah pemilik modal dan pengguna
16. Koperasi yang anggotanya terdiri atas pegawai negeri adalah
17. Kekuasaan tertinggi dalam koperasi adalah
18. Seorang pengurus koperasi menduduki jabatannya selama
19. Simpanan anggota pada koperasi yang harus dibayarkan setiap bulan adalah
20. Simpanan anggota yang berdasarkan kemampuan adalah

Jawablah pertanyaan di bawah ini dengan benar.

21. Sebutkan tiga jenis koperasi yang anda ketahui.
22. Sebutkan tiga manfaat menjadi anggota koperasi.
23. Apakah hak dan kewajiban dari seorang anggota koperasi?
24. Sebutkan unsur-unsur yang ada pada lambang koperasi.
25. Sebutkan lima jenis barang yang ada dalam koperasi sekolah.

Perkembangan Teknologi



Ringkasan Materi

1. Kemajuan ilmu pengetahuan dan teknologi dapat mempermudah kehidupan manusia.
2. Perkembangan teknologi produksi makin pesat. Contohnya mesin produksi dari yang sederhana sampai modern.
3. Informasi dapat dikirim secara langsung atau tidak langsung.
4. Jenis alat komunikasi beraneka macam. Ada yang tradisional dan modern. Alat komunikasi itu berupa surat, telegram, telepon, radio, televisi, dan media cetak (koran, majalah, tabloid, buku).
5. Melalui televisi dapat memperoleh hiburan. Selain itu, dapat menambah pengetahuan dan pengalaman. Hal terpenting mendapat informasi tentang perkembangan dunia.
6. Sarana transportasi meliputi transportasi darat, laut, dan udara. Transportasi darat seperti sepeda, motor, mobil, kereta api, dan sebagainya. Transportasi laut contohnya kapal laut. Transportasi udara contohnya pesawat terbang dan helikopter.

Latihan

1. Para petani menggunakan perontok padi yang merupakan teknologi
 - a. produksi
 - b. transportasi
 - c. industri
 - d. komunikasi
2. Pesawat terbang termasuk alat transportasi udara yang menggunakan
 - a. teknologi sederhana
 - b. teknologi modern
 - c. perakitan khusus
 - d. bahan ringan
3. Kereta api dikemudikan oleh
 - a. masinis
 - b. pilot
 - c. nakoda
 - d. supir
4. Mengirim surat dengan perangko dapat menggunakan jasa
 - a. Pos Indonesia
 - b. Telkom
 - c. Pos dan Giro
 - d. Dinas Perhubungan

5. Telepon sebagai alat komunikasi ditemukan oleh
 - a. Marconi
 - b. John Logie Baird
 - c. Alexander Graham Bell
 - d. Samuel Morse
7. PT PAL adalah industri kapal laut yang terdapat di kota
 - a. Jakarta
 - b. Bandung
 - c. Medan
 - d. Surabaya
9. Di bawah ini angkutan darat bermesin adalah
 - a. dokar
 - b. mobil
 - c. becak
 - d. heliok
6. Di bawah ini yang termasuk media cetak adalah
 - a. koran dan telepon
 - b. buku dan buletin
 - c. Televisi dan majalah
 - d. surat kabar dan radio
8. Di bawah ini stasiun TV yang dikelola oleh pemerintah ialah
 - a. TVRI
 - b. Metro TV
 - c. TPI
 - d. RCTI
10. Salah satu contoh media cetak adalah
 - a. internet
 - b. radio
 - c. koran
 - d. televisi

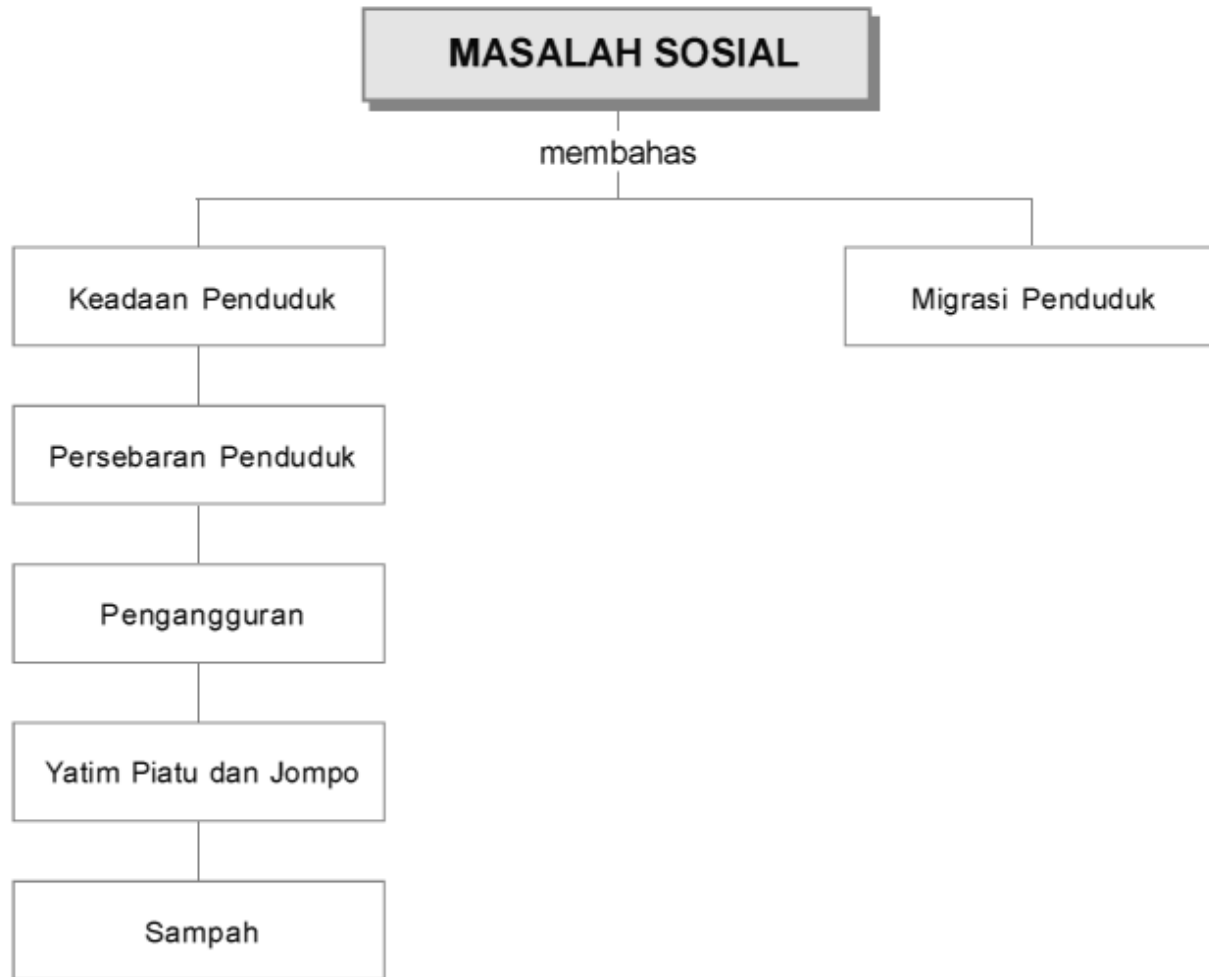
Isilah titik-titik di bawah ini dengan tepat.

11. Industri pesawat terbang nusantara terdapat di kota
12. Pesawat radio pertama kali ditemukan oleh
13. Surat kabar merupakan sarana komunikasi media
14. PT Telkom memberikan pelayanan di bidang
15. Benda pos yang ditempel pada sampul surat disebut
16. Andong merupakan sarana transportasi dengan menggunakan tenaga
17. Industri perakitan mobil yang terkenal di Indonesia adalah ...
18. Alat komunikasi tidak langsung dapat berupa ...
19. Televisi ditemukan oleh
20. Nama koran tertua di dunia adalah

Jawablah pertanyaan di bawah ini dengan benar.

21. Sebutkan tiga jenis angkutan, jika dilihat dari tempatnya.
22. Berikan contoh tiga angkutan darat.
23. Jelaskan manfaat alat komunikasi bagi manusia
24. Sebutkan lima stasiun TV yang dikelola oleh swasta.
25. Sebutkan tiga nama surat kabar yang kamu ketahui.

Masalah Sosial



Ringkasan Mater

A. Keadaan Penduduk

Penduduk di Indonesia dapat digolongkan menjadi tiga kelompok, yaitu

- Kelompok usia belum produktif, berada di rentang usia 0–14 tahun. Pada kelompok ini penduduk belum dapat bekerja aktif.
- Kelompok usia belum produktif, berada di rentang usia 14–49 tahun. Pada kelompok ini penduduk dapat bekerja aktif.
- Kelompok usia belum produktif, berada di rentang usia 50 tahun ke atas. Pada kelompok ini penduduk tidak dapat bekerja aktif.

Kita hidup dalam masyarakat yang sangat beraneka ragam keadaannya. Ada yang kaya dan ada yang miskin. Ada yang hidup di perumahan mewah dan ada yang tidak. Kesenjangan sosial yang tinggi mendorong kecemburuan sosial. Akibatnya, timbul masalah sosial dalam masyarakat. Contoh masalah sosial, antara lain kepadatan penduduk, kemiskinan, dan sebagainya.

1. Persebaran Penduduk

Penduduk di Indonesia terkonsentrasi di Pulau Jawa. Hal ini disebabkan oleh beberapa hal, antara lain

a. Kesuburan Tanah

Wilayah yang subur akan dipadati oleh penduduk. Pulau Jawa subur karena terdapat banyak gunung berapi. Hasil letusan gunung berapi sangat membantu kesuburan tanah.

b. Sarana dan Prasarana Pendidikan

Sekolah dan perguruan tinggi yang berkualitas berada di Pulau Jawa. Hal ini mendorong penduduk di luar Jawa untuk pindah ke Pulau Jawa.

c. Pembangunan Industri

Industri banyak didirikan di Pulau Jawa. Akibatnya, penduduk luar Jawa datang mencari pekerjaan. Tidak meratanya penduduk menyebabkan pembangunan yang tidak merata. Hal ini membuat pulau-

pulau di luar Jawa terhambat pembangunannya. Akibatnya, pembangunan di Indonesia juga tidak berjalan lancar.

2. Pengangguran

Banyaknya pengangguran merupakan masalah sosial. Semua orang membutuhkan makan, minum, pakaian serta tempat tinggal. Kebutuhan tersebut merupakan kebutuhan pokok. Jika tidak mempunyai pekerjaan yang dapat mencukupi kebutuhan menjadi masalah dalam masyarakat.

Pengangguran menimbulkan masalah baru, yaitu kejahatan. Masyarakat membutuhkan kehidupan yang aman, tenteram dan tertib. Untuk itulah kalian harus belajar dengan rajin agar menjadi anak yang cerdas, terampil, dan berbudi pekerti yang baik. Jika kita memiliki keahlian dan keterampilan tentu dapat menciptakan lapangan kerja sendiri. Dengan demikian, dapat mencukupi kebutuhan hidup serta menolong orang lain.

Pemerintah wajib menyediakan lapangan kerja. Lapangan kerja yang tersedia disesuaikan dengan kebutuhan. Uluran tangan wiraswasta untuk menciptakan lapangan kerja sangat diperlukan.

3. Yatim Piatu dan Orang Jompo

Masalah sosial lainnya adalah anak-anak yatim piatu dan orang tua renta. Mereka tidak memiliki saudara dan tempat tinggal. Panti asuhan dan panti jompo berguna untuk meringankan beban mereka. Uluran tangan orang-orang mampu sangat membantu.

Orang yang sudah tua usianya, ingatannya sudah menurun. Kebutuhan dan kesehatannya juga menurun. Orang yang jompo tidak dapat mencari makan sendiri. Hal itu merupakan masalah sosial yang perlu sangat diperhatikan dan mendapat pemecahan. Semuanya menyangkut hidup manusia sehingga penanganannya bersifat kemanusiaan.

4. Sampah

Sampah adalah sisa hasil pemakaian produksi, baik rumah tangga maupun industri. Masalah sampah dapat menjadi masalah sosial. Coba bayangkan jika sampah rumah tangga dibiarkan saja tanpa dibersihkan. Tentunya akan merusak pemandangan kota. Selain itu dapat menimbulkan bau tidak sedap. Masih rendahnya kesadaran masyarakat untuk membuang sampah pada tempatnya mendorong kondisi tersebut. Jika kalian perhatikan banyak masyarakat yang membuang sampah sembarangan tanpa rasa bersalah. Mungkin tanpa sadar kalian pun pernah melakukannya.

B. Migrasi Penduduk

Migrasi penduduk adalah perpindahan penduduk dari tempat yang satu ke tempat yang lain. Dalam mobilitas penduduk terdapat migrasi internasional yang merupakan perpindahan penduduk yang melewati batas suatu negara ke negara lain. Adapun migrasi internal merupakan perpindahan penduduk yang di sekitar wilayah satu negara saja. Migrasi dapat menimbulkan beragam masalah sosial. Akan tetapi, jika migrasi dikelola terpadu akan berdampak positif. Faktor pendorong migrasi bermacam-macam. Faktor-faktor tersebut adalah sebagai berikut.

Faktor-faktor pendorong (*push factor*) adalah sebagai berikut.

- Makin berkurangnya sumber-sumber kehidupan seperti menurunnya kesuburan tanah. Menurunnya permintaan atas barang-barang tertentu yang bahan bakunya makin susah diperoleh. Di antaranya hasil tambang, kayu, atau bahan dari pertanian.
- Menyempitnya lapangan pekerjaan di tempat asal (misalnya tanah untuk pertanian di wilayah perdesaan yang makin menyempit).
- Adanya tekanan-tekanan seperti politik, agama, dan suku, sehingga mengganggu penduduk di daerah asal.
- Alasan pendidikan, atau pekerjaan.
- Bencana alam seperti banjir, kebakaran, gempa bumi, tsunami, musim kemarau panjang atau adanya wabah penyakit.

Faktor-faktor penarik (*pull factor*) antara lain adalah

- Adanya harapan akan memperoleh kesempatan untuk memperbaiki taraf hidup.
- Adanya kesempatan untuk memperoleh pendidikan yang lebih baik.
- Keadaan lingkungan dan keadaan hidup yang menyenangkan, misalnya iklim, perumahan, sekolah, dan fasilitas-fasilitas publik lainnya.
- Adanya aktivitas-aktivitas di kota besar, tempat-tempat hiburan, pusat kebudayaan menjadi daya tarik bagi orang-orang daerah lain untuk bermukim di kota besar.

1) Migrasi Internal

Migrasi internal dapat dikelompokkan ke dalam empat macam. Di antaranya urbanisasi, reurbanisasi, transmigrasi, dan evakuasi.

a. Urbanisasi

Urbanisasi merupakan perpindahan penduduk dari desa ke kota. Urbanisasi kurang menguntungkan. Bagi desa yang ditinggalkan akan mengalami kekurangan penduduk.

Tenaga kerja berkurang. Akibatnya, lahan pertanian di desa tidak tergarap. Sementara di perkotaan

yang didatangi penduduknya akan semakin padat. Kaum urban biasanya tidak dibekali pendidikan yang memadai. Di kota seringkali mereka menjadi beban pemerintah. Oleh karena akan menambah jumlah pengangguran di kota. Untuk mengatasi laju urbanisasi perlu bantuan semua pihak. Di antaranya pemerintah dan pengusaha.

Pemerintah harus memerhatikan sarana prasarana di desa. Dengan demikian, penduduk desa tidak lagi tergiur datang ke kota. Oleh karena fasilitas di desa telah memadai. Para pengusaha juga dapat berperan serta. Di desa dapat saja dibangun industri. Dengan demikian, tenaga kerja di desa dapat dipekerjakan. Selanjutnya, taraf hidup di desa akan meningkat.

b. Reurbanisasi

Reurbanisasi merupakan perpindahan penduduk dari kota ke desa. Hal ini dapat saja terjadi. Umumnya penduduk yang ingin menikmati hari tua adalah pelaku reurbanisasi.

c. Transmigrasi

Transmigrasi adalah perpindahan penduduk dari suatu wilayah yang padat penduduknya ke wilayah yang penduduknya masih sedikit.

Jenis-jenis/macam-macam Transmigrasi adalah sebagai berikut.

- Transmigrasi Umum

Transmigrasi umum adalah program transmigrasi yang dibiayai oleh pemerintah melalui deknakertans (departemen tenaga kerja dan transmigrasi).

- Transmigrasi Spontan/Swakarsa

Transmigrasi spontan adalah transmigrasi yang dilakukan atas keinginan diri sendiri. Namun, masih mendapatkan bimbingan serta fasilitas penunjang dari pemerintah.

- Transmigrasi Bedol Desa

Transmigrasi bedol desa adalah transmigrasi yang dilakukan secara massal dan kolektif terhadap satu atau beberapa desa beserta aparatur desanya. Biasanya transmigrasi bedol desa terjadi karena bencana alam yang merusak desa tempat asalnya.

d. Evakuasi

Evakuasi dilakukan pada saat terjadi peristiwa berbahaya. Misalnya, saat terjadi gempa, longsor, banjir atau bencana lainnya. Evakuasi merupakan perpindahan penduduk ke daerah yang lebih aman.

2) Migrasi Eksternal

a. Imigrasi

Perpindahan penduduk dari suatu negara ke negara yang lain disebut imigrasi. Misalnya penduduk Australia datang ke Indonesia untuk bekerja.

b. Emigrasi

Perpindahan penduduk dari dalam negeri ke luar negeri disebut dengan emigrasi.

c. Repatriasi

Repatriasi merupakan pemulangan penduduk dari suatu negara ke negara asal. Hal ini dapat saja terjadi. Biasanya terjadi karena suatu negara mengalami konflik politik berkepanjangan atau karena bencana alam.

d. Remigrasi

Remigrasi merupakan perpindahan penduduk kembali ke negara asalnya.

Latihan

1. Masyarakat yang paling kecil adalah
 - a. desa
 - b. keluarga
 - c. RW
 - d. kecamatan
2. Fakir miskin dan anak telantar dipelihara oleh
 - a. negara
 - b. pemerintah
 - c. keluarga
 - d. masyarakat serta sosial
3. Banyaknya pengangguran jika tidak terkendali akan menimbulkan masalah sosial, dalam bentuk
 - a. kerawanan sosial
 - b. ketergantungan masyarakat
 - c. gangguan keamanan
 - d. kecemburuan sosial
4. Perbedaan sosial yang sangat menonjol dalam lingkungan kita adalah keadaan masyarakat yang kaya dan ada pula
 - a. masyarakat pegawai
 - b. para pedagang
 - c. petani dan buruh
 - d. masyarakat miskin
5. Untuk mengurangi jumlah pengangguran dapat diadakan
 - a. pelatihan kerja
 - b. urbanisasi
 - c. pemberian uang saku
 - d. transmigrasi
6. Keamanan lingkungan menjadi tanggung jawab
 - a. pemerintah
 - b. bersama warga
 - c. ketua RW
 - d. lurah

7. Bencana alam yang terjadi bukan semata kondisi alam, tetapi dapat dipengaruhi oleh
- musim dan iklim
 - perkembangan industri
 - kemajuan pembangunan
 - sikap hidup warga
8. Pemerintah telah memberikan BLT kepada warga yang berhak menerima. BLT adalah
- Bimbingan Lingkungan Terpadu
 - Bantuan Lingkungan Terprogram
 - Bantuan Langsung Tunai
 - Bimbingan Langsung Terampil
9. Sebagian besar masyarakat Indonesia hidup dalam garis
- kecukupan
 - kebahagiaan
 - kemiskinan
 - kekerabatan
10. Setiap warga masyarakat menginginkan keadaan sosial selalu
- tertib dan aman
 - demo di jalanan
 - menyampaikan tuntutan
 - hidup tanpa aturan

Isilah titik-titik di bawah ini dengan tepat.

- Penduduk Indonesia berkonsentrasi di pulau
- Indonesia dalam jumlah penduduk menduduki peringkat
- Pengangguran menimbulkan masalah baru, yaitu
- Untuk menciptakan lapangan kerja sangat diperlukan uluran tangan
- Kesenjangan sosial yang tinggi mendorong
- Salah satu contoh masalah sosial, antara lain
- Tidak merata persebaran penduduk di Indonesia disebabkan oleh
- Masyarakat membutuhkan kehidupan yang
- Usaha pemerintah untuk mengatasi masalah pengangguran adalah
- Migrasi adalah

Jawablah pertanyaan di bawah ini dengan benar.

- Sebutkan masalah sosial yang terdapat di lingkungan sekitarmu.
- Apakah yang dapat dilakukan terhadap korban bencana alam?
- Apakah yang dimaksud tunawisma?
- Sebutkan upaya-upaya dapat dilakukan untuk mencegah bahaya banjir.
- Bagaimana sikapmu melihat orang-orang jompo di sekitar tempat tinggalmu.

Ujian Semester 2

- Manusia adalah makhluk sosial. Ini berarti manusia
 - tidak bisa hidup seorang diri tanpa bantuan orang lain
 - bisa hidup seorang diri tanpa bantuan orang lain
 - menggantungkan hidupnya pada orang lain
 - menolak campur tangan orang lain dalam hidupnya
- Tempat terjadinya kegiatan jual dan beli barang adalah di
 - laut
 - kantor
 - pasar
 - rumah ibadah
- Ada bermacam-macam kegiatan produksi. Berikut ini yang termasuk kegiatan produksi adalah
 - penjahit menjahit baju dan celana
 - kurir mengantarkan pesanan
 - sopir truk mengangkut hasil bumi ke kota
 - siswa memakai baju seragam
- Ada bermacam-macam kegiatan yang memberikan pelayanan jasa. Berikut ini yang termasuk kegiatan ekonomi dalam menghasilkan jasa adalah
 - buruh pabrik menghasilkan sepatu
 - petani menghasilkan beras
 - nelayan menghasilkan ikan
 - dokter melayani pasien
- Aktivitas memindahkan atau mengangkut barang produksi ke tempat lain untuk dijual disebut kegiatan
 - distribusi
 - konsumsi
 - produksi
 - komunikasi
- Pelaku ekonomi atau orang yang melakukan kegiatan distribus barang dan jasa disebut
 - produsen
 - distributor
 - produksi
 - konsumen

7. Orang yang kegiatan ekonominya adalah menjual barang-barang hasil bumi ke pasar disebut
- petani tambak
 - pedagang asongan
 - pengrajin
 - pedagang hasil bumi
9. Perhatikan tabel di sebelah ini!
- | No. | Hasil Kegiatan Ekonomi |
|-----|------------------------|
| 1. | Ikan hias |
| 2. | Cumi-cumi |
| 3. | Kambing |
| 4. | Udang |
| 5. | Burung |
- Yang merupakan hasil perikanan adalah
- 1 - 2- 3
 - 1 - 2 - 5
 - 1 - 2- 4
 - 1 - 3 - 5
11. Badan usaha atau perekonomian yang paling cocok diterapkan di Indonesia adalah
- koperasi
 - Perseroan Terbatas
 - Firma
 - badan usaha swasta
13. Sifat kemasyarakatan dan persatuan yang kokoh dalam koperasi dilambangkan oleh
- bintang dan perisai
 - timbangan
 - gerigi roda
 - pohon beringin
15. Rantai pada lambang koperasi mengandung arti
- Pancasila sebagai landasan idiil koperasi
 - persahabatan dan persatuan yang kokoh
 - sifat adil
 - kepribadian koperasi rakyat Indonesia
17. Koperasi yang anggotanya adalah kepala sekolah, guru, pegawai di sekolah dan murid-murid sebuah sekolah adalah jenis
- koperasi unit desa
 - koperasi pertanian
 - koperasi sekolah
 - koperasi pegawai negeri
19. Orang yang pertama kali membuat balon udara yang dapat dinaiki adalah
- Montgomeri
 - Montagn
 - Montgolfier
 - Monte Carlo
21. Bahan baku yang dipakai untuk membuat batu bata adalah
- batu hitam
 - tanah pasir
 - batu merah
 - tanah liat
8. Orang yang bekerja pada tuan tanah pada musim tanam dan musim panen disebut
- peternak
 - buruh musiman
 - peladang
 - buruh tetap
10. Sebagian besar masyarakat yang tinggal di daerah pantai melakukan kegiatan ekonomi sebagai
- peternak
 - petani
 - nelayan
 - pengrajin
12. Kesejahteraan hidup anggota koperasi diusahakan secara
- sendiri-sendiri tanpa bantuan orang lain
 - secara bersama-sama
 - oleh pengurus koperasi
 - oleh pemerintah
14. Tokoh yang dijadikan Bapak Koperasi Indonesia adalah
- Drs. Mohammad Hatta
 - Ir. Soekarno
 - Dr. Mochtar Kusumaatmadja
 - Ir. H. Juanda
16. Koperasi yang membantu para anggota untuk memperoleh kredit atau pinjaman uang disebut
- koperasi produksi
 - koperasi simpan pinjam
 - koperasi konsumsi
 - koperasi unit desa
18. Alat transportasi darat yang digunakan pada zaman dahulu adalah
- gerobak
 - sampan
 - rakit
 - kapal layar
20. ASDP singkatan dari
- Angkutan Sungai Danau dan Penyeberangan
 - Angkutan Sungai Danau dan Penerbangan
 - Asosiasi Angkutan Sungai Danau dan Penyeberangan
 - Angkutan Selat Danau dan Penyeberangan
22. Peralatan dan cara yang digunakan orang untuk membuat suatu barang disebut
- teknologi produksi
 - teknologi tepat guna
 - teknologi buatan
 - teknologi modern

23. Petani tradisional membajak sawah dengan
- bajak yang ditarik kerbau
 - sabit
 - bajak traktor
 - cangkul
24. Orang yang pertama kali membuat dan menggunakan telepon adalah
- Alexander Grover Cleveland
 - Alexander Graham Bell
 - Alexander Lioyd
 - Alexander Agung
25. Angka kelahiran yang tinggi dan angka kematian yang rendahakan menyebabkan terjadinya
- pertumbuhan penduduk yang tinggi
 - pertumbuhan penduduk yang rendah
 - persebaran penduduk yang tidak merata
 - peningkatan pendapatan
26. Berikut ini merupakan kegiatan manusia memelihara lingkungan sekitar adalah
- membuang limbah industri ke sungai
 - membuang sampah ke sungai
 - menggunakan mesin yang banyak mengeluarkan asap
 - membersihkan sungai dari sampah
27. Yang tidak termasuk fasilitas umum di bawah ini adalah
- Pusat Kesehatan Masyarakat (Puskesmas)
 - sarana transportasi
 - sarana pendidikan
 - rumah penduduk
28. Lembaga yang bertugas mengelola sampah adalah
- Dinas Kesehatan
 - Dinas Kehutanan
 - Dinas Perhubungan
 - Dinas Kebersihan
29. Salah satu masalah kependudukan negara kita adalah rendahnya kualitas penduduk. Salah satu penyebab rendahnya kualitas penduduk adalah ini adalah
- penduduk sudah peduli pendidikan anak
 - banyak lulusan sarjana yang menganggur
 - penduduk rajin belajar sendiri
 - tingkat pendidikan penduduk rendah
30. Salah satu tindakan yang sebaiknya dilakukan kalau rumahwarga mengalami kebakaran adalah
- menonton petugas pemadam kebakaran bekerja
 - menutup jalan masuk ke lokasi kebakaran
 - membantu memadamkan api
 - menggunakan kesempatan untuk mencuri

Isilah titik-titik di bawah ini dengan jawaban yang benar!

- Kebutuhan akan makanan, pakaian, dan tempat tinggal atau perumahan disebut kebutuhan ... atau
- Kegiatan manusia untuk mendapatkan penghasilan dalam rangka memenuhi kebutuhan hidup disebut kegiatan
- Kegiatan menyalurkan barang-barang dari produsen kepada orang-orang yang membutuhkan disebut
- Menangkap ikan di laut, memelihara ikan di tambak, membuat garam, dan membuat barang kerajinan dari kerang adalah pekerjaan yang dilakukan penduduk yang tinggal di
- Lembaga yang paling cocok dengan maksud pasal 33 ayat (1) UUD 1945 adalah
- Koperasi yang menyediakan barang-barang kebutuhan pokok anggotanya disebut koperasi
- Makna rantai dalam gambar lambang koperasi adalah
- Tidak naik kelas, malas ke sekolah, dan suka terlambat mengumpulkan PR adalah contoh masalah
- Tingkat pendidikan suatu masyarakat yang rendah dapat menyebabkan rendahnya
- Aksi pencurian, perampokan, penodongan, teror, dan konflik antarwarga dapat menciptakan
- Sampah yang menumpuk di lingkungan pemukiman dapat menyebabkan
- Sebelum diposkan, amplop surat ditemplei
- Bandara singkatan dari
- Kereta api berjalan di atas ... dan berhenti di
- Kapal yang digunakan untuk memandu kapal-kapal besar masuk atau keluar pelabuhan disebut kapal

Jawablah soal-soal berikut ini!

- Sebutkan dan jelaskan 3 macam kegiatan ekonomi!
- Sebutkan 7 macam pekerjaan yang ada di daerah perkotaan!
- Simbol apa saja yang terdapat dalam lambang koperasi? Apa artinya?
- Apa tujuan didirikannya koperasi?
- Apa yang dimaksud dengan koperasi produksi?
- Jelaskan tiga manfaat kentongan bagi warga pedesaan!
- Sebutkan 5 macam alat transportasi pada zaman dahulu!
- Apasaja alat komunikasi yang digunakan pada masa kini?
- Apa yang harus dilakukan agar lingkungan tempat tinggal kita aman dari pencurian?
- Sebutkan 5 contoh masalah sosial di lingkungan tempat tinggalmu!